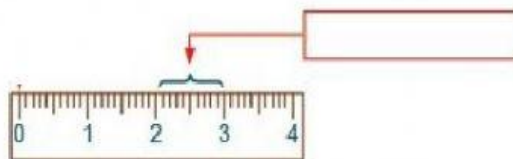


MEDIDAS DE LONGITUD: EL CENTIMETRO

1.- OBSERVA EL VIDEO, LUEGO COMPLETA LOS EJERCICIOS

¿CÓMO SE LLAMA LA MEDIDA MARCADA EN LA REGLA?

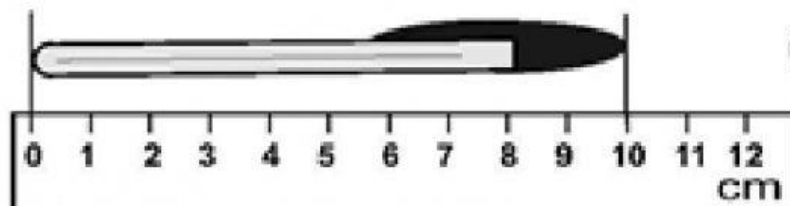
MEDIDAS DE LONGITUD



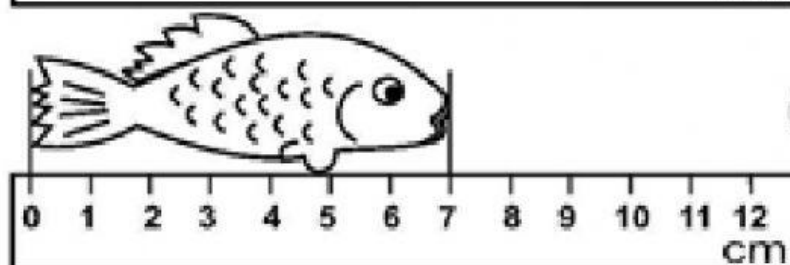
* La unidad principal de la longitud es el metro (m).

RECUERDA: para medir cosas grandes usamos el metro (m) y para medir cosas pequeñas usamos la regla (cm)

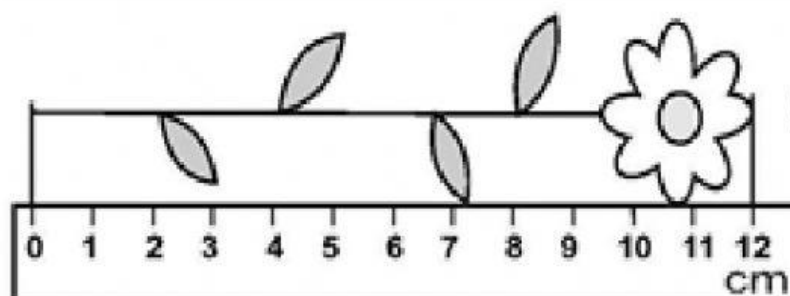
1 Escribo las medidas.



() centímetros

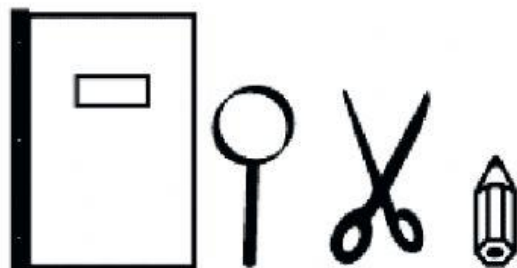


() centímetros



() centímetros

Observa estos objetos:

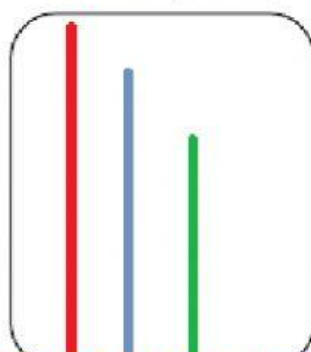


¿Cuál tiene mayor longitud?

¿Cuál tiene menor longitud?

CONTESTA: usando las palabras mayor o menor

DIBÚJALAS AQUÍ DENTRO



La línea azul tiene longitud que la verde.

La línea azul tiene longitud que la roja.

La línea verde tiene longitud que la roja.

La línea roja tiene longitud que la verde.