

DESCOMPOSICIÓN DE NÚMEROS HASTA LA CENTENA DE MILLAR

I) Relaciona la descomposición con el número que le corresponde.

$$500\ 000 + 600 + 30 + 4$$

48 503

$$5\ \text{CM} + 4\ \text{UM} + 2\ \text{C} + 8\ \text{D}$$

500 634



$$40\ 000 + 8\ 000 + 500 + 3$$

504 280







II) Escribe la descomposición en sumando de los siguientes números.

CM	DM	UM	C	D	U	DESCOMPOSICIÓN ADITIVA
4	6	0	0	4	9	
	8	0	1	3	8	
7	0	4	3	0	2	
2	3	5	0	6	0	

III) ¿Qué número corresponde la siguiente descomposición?

100000s	10000s	1000s	100s	10s	1s
					

Escríbelo aquí:

100000s	10000s	1000s	100s	10s	1s
					

Escríbelo aquí: