





NUMERACIÓN DEL 200 AL 299

1. Completa la serie.

234 $\xrightarrow{+2}$ 236 248

297 $\xrightarrow{-2}$ 295 283

2. Une.

 2 C + 6 U	doscientos veintidós	 2 C + 22 U
 2 C + 5 D	doscientos setenta y ocho	 2 C + 7 D + 8 U
	doscientos cincuenta	
	doscientos seis	

3. Lee y marca el número que corresponda.

<ul style="list-style-type: none"> • Es menor que 215. • La cifra de las unidades es 4. <p> <input type="radio"/> 201 <input type="radio"/> 215 <input type="radio"/> 214 <input type="radio"/> 241 </p>	<ul style="list-style-type: none"> • Tiene 2 centenas. • Es mayor que 250. <p> <input type="radio"/> 293 <input type="radio"/> 232 <input type="radio"/> 128 <input type="radio"/> 242 </p>
---	--

4. Elige el signo $>$, $<$ o $=$.

253 <input type="radio"/> 235	209 <input type="radio"/> $200 + 90$	281 <input type="radio"/> $2\text{ C} + 81\text{ U}$
274 <input type="radio"/> 284	242 <input type="radio"/> $200 + 36$	270 <input type="radio"/> $2\text{ C} + 90\text{ U}$

5. Escribe el valor del 2 en cada número.

251 \rightarrow unidades 102 \rightarrow unidades 28 \rightarrow unidades