



Evaluación Ciencias Naturales 5º año mes Junio

Nombre: _____	Curso: 5º _____ Puntaje: 23 p
---------------	----------------------------------

ITEM I: CONOCIMIENTO

1. Arrastra y enumera del 1 al 5 de la unidad más pequeña al organismo más complejo (5 puntos).

 Sistema	 célula	 Organismo
 órgano	 Tejido	

Fuente: commons.wikimedia.org

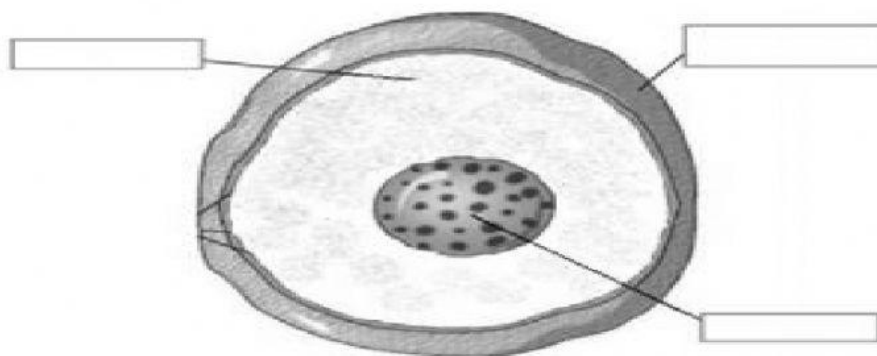
1	2	3	4	5
---	---	---	---	---

2. Ubica la letra de la imagen según su función: (4 puntos)

 A	 B	 C	 D
_____ En este órgano absorben nutrientes	_____ comienza propiamente la digestión	_____ Permite eliminar desechos.	_____ Produce jugos gástricos para la digestión.



3. Arrastra y completa el esquema de la célula: (3 puntos)

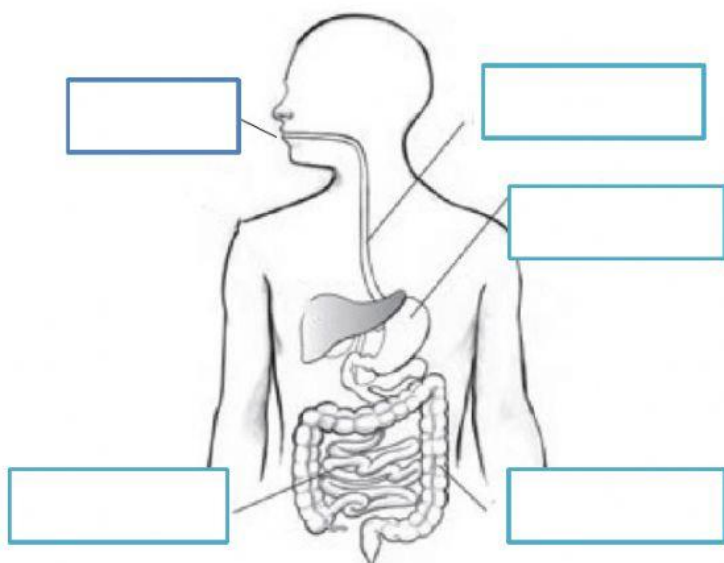


Citoplasma

núcleo

Membrana
plasmática

3. Completa la siguiente imagen con las estructuras que faltan del sistema digestivo. 5p



ITEM II: SELECCIÓN MÚLTIPLE (10 PUNTOS)

1-. Según lo que tú sabes. La primera transformación de los alimentos se produce en:

- A. El estómago.
- B. La boca.
- C. El intestino grueso.
- D. El esófago.



**2-. ¿Cuál de las siguientes alternativas explica mejor la siguiente afirmación?
La función del sistema digestivo es digerir los alimentos.**

- A. El sistema digestivo lo que hace es transportar a través de un largo tubo los alimentos.
- B. El sistema digestivo se encarga de eliminar del organismo las sustancias de desecho
- C. El sistema digestivo transporta los nutrientes a través de la sangre.
- D. El sistema digestivo se encarga de dividir los alimentos en sustancias más pequeñas, para que luego sean absorbidas por la sangre.

3-. Según tus conocimientos respecto al tema ¿con la ayuda de qué se forma el bolo alimenticio?

- A. Saliva.
- B. Sangre.
- C. Dentadura.
- D. a y c son correctas.

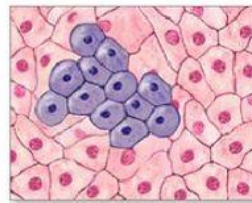
4-. Según lo que has aprendido. Una vez que los alimentos han sido digeridos se absorben pasando de.....

- A. La sangre al intestino delgado.
- B. Del estómago al intestino delgado.
- C. Del intestino delgado a la sangre.
- D. Del estómago a la sangre.

5-. Observa las siguientes imágenes y elige la alternativa que explique mejor la relación que existe entre ambas.



Ladrillos



Células

ADAM

- A. Los ladrillos al igual que las célula al unirse van formando una estructura.
- B. Los ladrillos son igual de rígidos que las células.
- C. Los ladrillos al igual que la célula pueden romperse.
- D. Los ladrillos al igual que la célula poseen núcleo.

6-. Según tus conocimientos en relación al tema ¿Qué descubrimiento permitió la observación e investigación de la célula?

- A. El telescopio.
- B. El estetoscopio.
- C. El microscopio.
- D. El endoscopio



Escuela Carmen Gallegos de Roble
Profesora: Rosa María Cabrera Núñez