


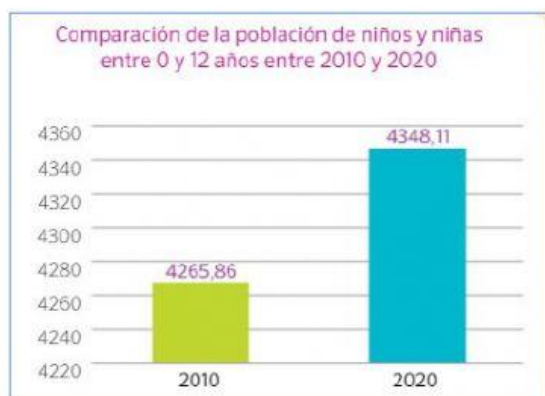


EVALUACIÓN DEL SEGUNDO QUIMESTRE DE ESTUDIOS SOCIALES

1. Complete el cuadro con los recuadros y gráficos que correspondan:

Permanentes	Renovables	No renovables
<p>Se cree que la humanidad podrá disfrutarlos siempre.</p>	<p>Pueden reponerse a corto tiempo.</p>	<p>El suministro es limitado y se agota.</p>
<p>Energía hidroeléctrica, el viento y las mareas.</p>	<p>Fauna, flora, suelo, agua.</p>	<p>Petróleo, carbón.</p>
<p>Produce energías alternativas, sin embargo, los elementos utilizados para generarla impactan el medioambiente.</p>	<p>La sobreexplotación no permite la regeneración adecuada de los recursos y se da la extinción de algunas especies.</p>	<p>Una vez terminado el recurso se perderá para siempre.</p>
<small>Archivo gráfico S14</small>	<small>Archivo gráfico S14</small>	<small>Archivo gráfico S14</small>
<p>Producen energía y son altamente contaminantes.</p>		<p>Estos recursos satisfacen necesidades vitales de los seres humanos.</p>
	<p>Están vinculados a formas de producción de energía.</p>	

2. Observe y analice la información de los cuadros y escriba verdadero o falso según corresponda:



La población de niños de 0 a 12 años en el 2010 era mayor que la de 66 a 100 años en el 2010.



La población de 13 a 65 años en el 2020 era muchísimo menor que la de 66 a 100 años en el 2020.



La población de 66 a 100 años del 2010 es mayor que la de 66 a 100 años del 2020.

3. En el siguiente gráfico seleccione:

- La población con mayor porcentaje de habitantes.
- La población con menor porcentaje de habitantes.



4. Una con líneas las tres características correctas del personaje:



Trabajo incansablemente por los derechos de los deportistas.

Su nombre es Juan Montalvo.

Fue Obispo de Riobamba

Su nombre es Monseñor Leónidas Proaño

Fue Presidente del Ecuador.

Trabajo incansablemente por los derechos de los indígenas.

5. Relacione a cada personaje con su nombre y hecho histórico:



la curaca **Quilago**, jefa de los Cochasquí, organiza un ejército de mujeres contra los incas.




Juan Montalvo, escritor ambateño.



Baltazar Ushca, el último hielero del Chimborazo, oficio que desempeña desde la época de la colonia















Rosa Zárate junto a Manuela Sáenz lucharon por la independencia del actual territorio ecuatoriano.



Oswaldo Guayasamín, pintor reconocido internacionalmente por la calidad de sus obras.

6. Complete el recuadro con las señales correspondientes:

Señales informativas	Señales de advertencias	Señales prohibitivas	Señales transitorias
			
			
			

7. Complete las frases con las palabras correspondientes:

cinturón

semáforo

tránsito

celular

- El peatón no puede ni debe hablar por _____ mientras está caminando.
- El peatón debe mirar el _____ y esperar la luz roja para cruzar.
- El conductor debe conocer muy bien las leyes de _____
- El conductor y acompañante deben usar el _____ de seguridad.

8. Seleccione sólo los servicios públicos básicos (4)

videojuegos

luz eléctrica

agua potable

alcantarillado

computador

celular

supermercado

salud

9. Escriba verdadero o falso. En caso de un incendio forestal:

- Hay que salir corriendo
- Hay que mantener la calma.
- Hay que alejarse del fuego.
- Hay que tratar de apagar el fuego.
- Hay que buscar refugio lejos de las llamas.
- Hay que esconderse en una cueva cercana.

10. Marque con una x las 3 razones por las que se contamina un río:

Los desechos de las fábricas.	
El desperdicio de agua en casa.	
Botar la basura en cualquier lugar.	
Arrojar desechos animales	
Usar el pito del auto.	

