

Evaluación de Matemáticas

Segundo año

SEGUNDO QUIMESTRE SEGUNDO PARCIAL

Lic. Luisana Arroyo

Estudiante:

1.- Represente las siguientes cantidades en el ábaco.

Escribe con cifras estos números



Quantum Arroyo

2.- Escribir en letras los siguientes números.

852.-

234.-

3.- Resolver las siguientes secuencias.



4.- Escribir mayor, menor o igual que.

84 _ 34

28 _ 61

13 _ 41

21 _ 76

77 _ 64

92 _ 97

27 _ 46

38 _ 31

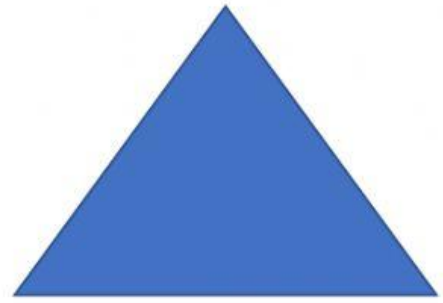
65 _ 82

5.- Realizar las siguientes sumas.

$$\begin{array}{r} 460 \\ + 167 \\ \hline \end{array}$$

$$\begin{array}{r} 199 \\ + 288 \\ \hline \end{array}$$

6.- identifique cuantos ángulos tiene cada figura geométrica.



7.- Realizar las siguientes restas.

$$\begin{array}{r} 846 \\ - 443 \\ \hline \end{array} \quad \begin{array}{r} 639 \\ - 201 \\ \hline \end{array}$$