
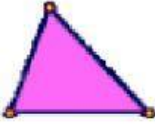
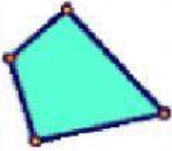
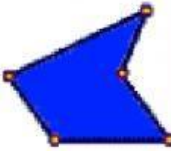





POLÍGONOS

Video sobre polígonos



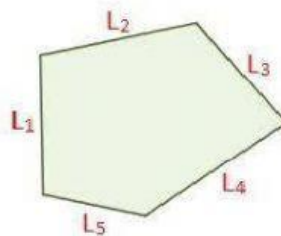
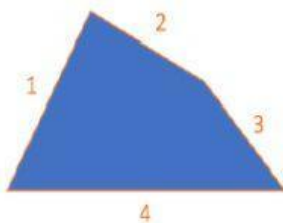
1. Cuenta el número de lados y clasifica los polígonos

3 lados	<input type="text"/>	<input type="text"/>	<input type="text"/>	<input type="text"/>	<input type="text"/>
					
<input type="text"/>	<input type="text"/>	Pentágono	<input type="text"/>	<input type="text"/>	<input type="text"/>

¿Cuántos ángulos tiene un octógono?

¿Y un decágono?

2. Traza todas las diagonales posibles



3. Haz el dibujo, piensa y contesta

- ¿Tiene el triángulo alguna diagonal?

- ¿Cuántas diagonales tiene un cuadrilátero?