



2^{do} Grado




MUNDO INFANTIL SCHOOL

EXAMEN DE CIENCIAS SOCIALES

II PARTIAL 25%

NOMBRE _____ FECHA: MARTES 22 DE JUNIO DEL 2021

Marque el nombre del prócer que corresponda a la imagen.



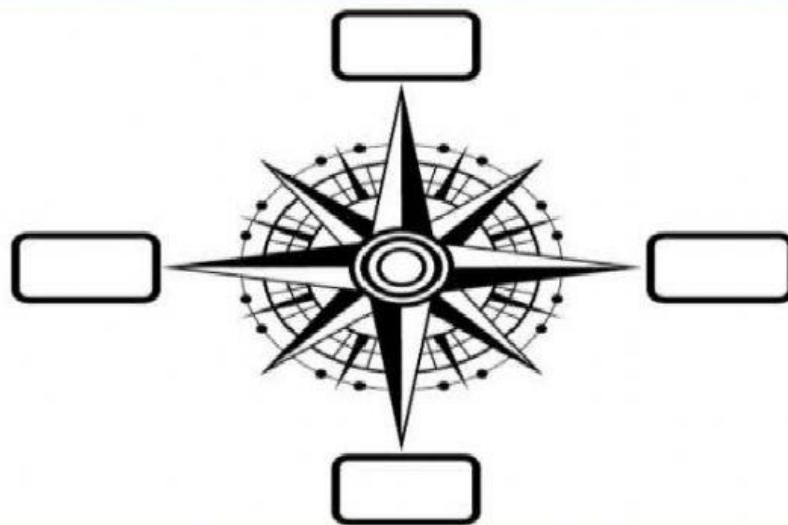
Arrastra los nombres de los puntos cardinales y ubícalos en el lugar correcto.

este

sur

oeste

norte



Arrastre el nombre correspondiente a su definición

Valle

Río

Meseta

Cordillera

Es una planicie que está en la parte alta de alguna montaña.

Es una cadena de montañas.

Son terrenos planos o pocos ondulados.

Es una corriente natural de agua que nace en las montañas.

Una con una línea el departamento con su respectiva cabecera.

Departamento

Atlántida

El Paraíso

Francisco Morazán

Choluteca

Intibucá

La Paz

Valle

Yoro

Islas de la Bahía

Cortes

cabecera

Yoro

La paz

Tegucigalpa

La Esperanza

Yuscaran

Choluteca

Nacaome

La ceiba

San pedro sula

Roatán