

Tabla del 7

Nombre: _____

Completa el círculo multiplicando el número en el centro por el anillo intermedio para conseguir los números externos.

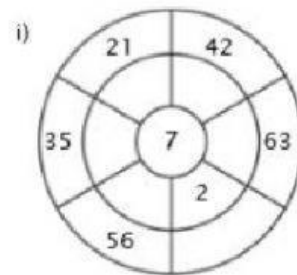
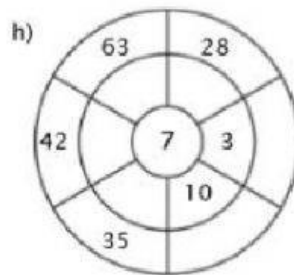
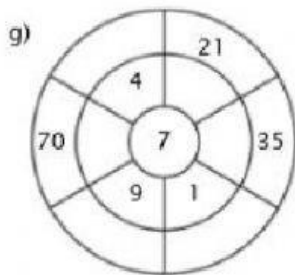
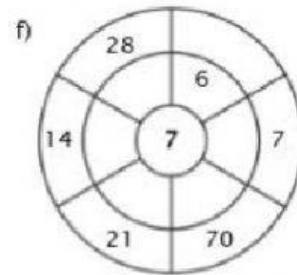
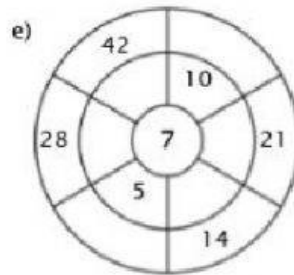
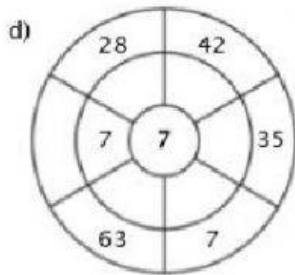
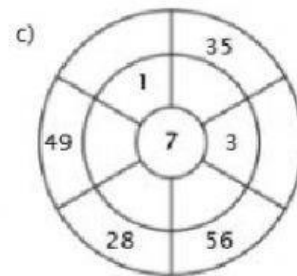
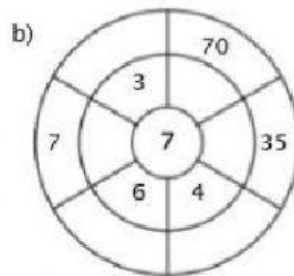
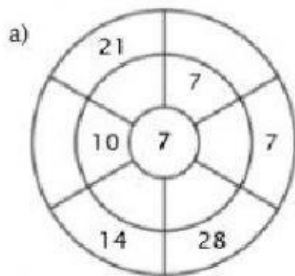


TABLA DEL 5

<https://www.imageneseducativas.com/>



Completa la tabla del 5.


5x1=	
5x2=	
5x3=	
5x4=	
5x5=	
5x6=	
5x7=	
5x8=	
5x9=	
5x10=	

Colorea los cuadros de los resultados de la tabla del 5.

5	54	10	9	40
15	20	14	25	18
34	52	30	8	50
35	36	98	47	12

Imágenes
Educativas.com

Completa la tabla del 5.



Relaciona

5x1=	20
5x9=	35
5x4=	25
5x7=	45
5x5=	5

TABLA DEL 2

<https://www.imageneseducativas.com/>



Completa la tabla del 2.


$2 \times 1 =$	
$2 \times 2 =$	
$2 \times 3 =$	
$2 \times 4 =$	
$2 \times 5 =$	
$2 \times 6 =$	
$2 \times 7 =$	
$2 \times 8 =$	
$2 \times 9 =$	
$2 \times 10 =$	

Colorea los cuadros de los resultados de la tabla del 2.

1	2	3	18	10
12	5	4	7	9
15	17	14	19	8
6	13	20	6	16

Imágenes
Educativas.com

Completa la tabla del 2.



Relaciona

$2 \times 1 =$ 18

$2 \times 9 =$ 2

$2 \times 4 =$ 10

$2 \times 7 =$ 14

$2 \times 5 =$ 8