



Instituto Evangélico Honduras

ACTIVIDADES DE CIENCIAS SOCIALES

NOMBRE: _____

CURSO: _____ FECHA _____

formas de Representación de la Tierra

Las principales formas de representar la Tierra son con los siguientes elementos:









Unir cada concepto con su respuesta correcta.

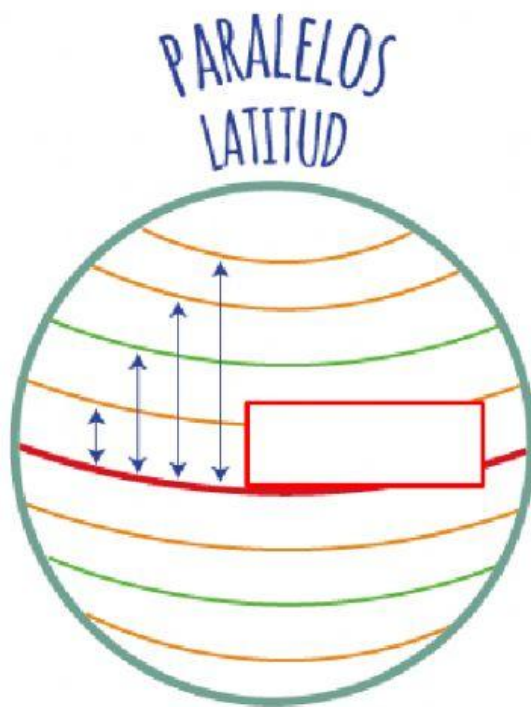
Los Mapas

Tiene como finalidad la elaboración de los mapas.

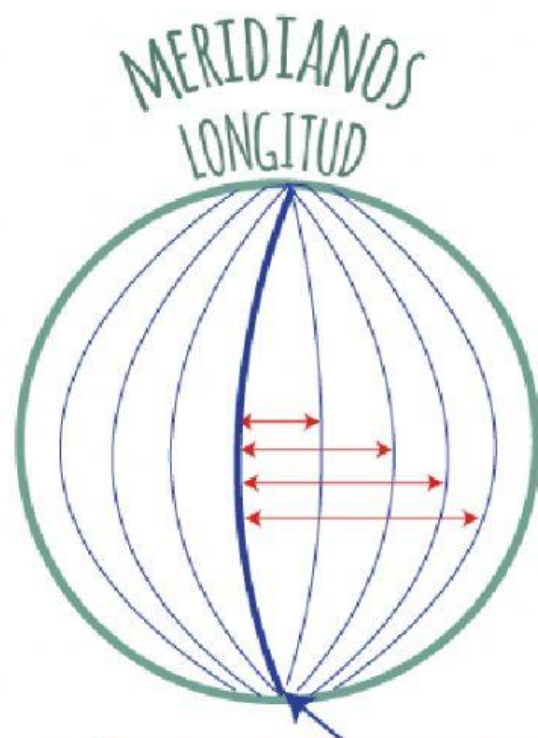
Cartografía

Son una representación total o parcial de la superficie curva de la tierra, sobre un papel plano.

Coloque el nombre correcto en los espacios en blanco.

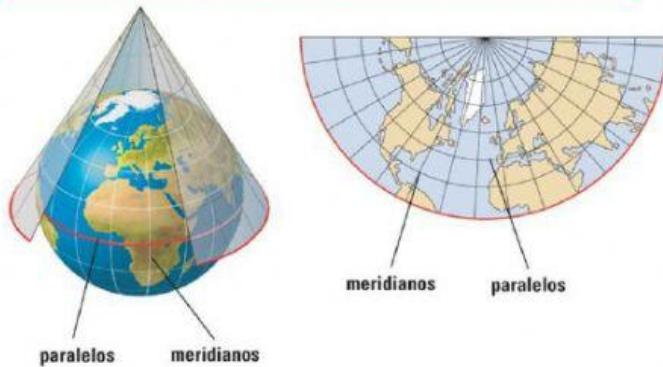
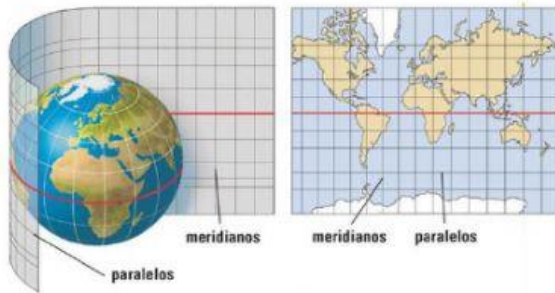


Es el paralelo más importante, que divide el Hemisferio Norte y el Hemisferio Sur



Es el meridiano más importante, también se le conoce como el Meridiano Cero

Arrastre el nombre correcto de cada proyección, hacia su imagen en el espacio en blanco.



Respuestas

Proyección Mollweide

Proyección Cónica

Proyección Mercator

Proyección Cilíndrica