



Sector/Subsector: Historia, Geografía y Ciencias Sociales. Profesor (a): Patricia Alarcón Valenzuela.		% DE EXIGENCIA 60 %	PUNTAJE TOTAL 33pts.	PUNTAJE OBTENIDO	Calificación
Evaluación Enseñanza Remota 2 3° año Básico					
Nombres y Apellidos:					Fecha:
OBJETIVO DE APRENDIZAJE	OA 08 - Identificar y ubicar en mapas las principales zonas climáticas del mundo y dar ejemplos de distintos paisajes que pueden encontrarse en estas zonas y de cómo las personas han elaborado diferentes estrategias para habitarlos.				
CONTENIDOS	<ul style="list-style-type: none">➤ Ubicacion zonas climáticas.➤ Características de las zonas climáticas.➤ Paisajes de las zonas climáticas.➤ Adaptacion a las diferentes zonas climáticas y sus paisajes.				

1. Lee las siguientes preguntas y marca con una X la opción correcta 21 pts.

Esta zona se ubica alrededor de la línea del ecuador, entre ambos trópicos y recibe la radiación solar de forma perpendicular. En ella se pueden encontrar paisajes de selva y sabana, y se caracteriza por la existencia de una vegetación abundante y muy variada.

A) ¿A qué zona climática corresponde la descripción?

- A) Templada.
- B) Cálida.
- C) Polar.
- D) Fría.

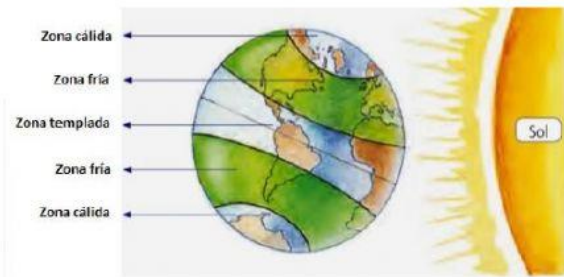
B) Observa atentamente la siguiente imagen ¿para cuál de las zonas climáticas esta vestimenta es la más adecuada?



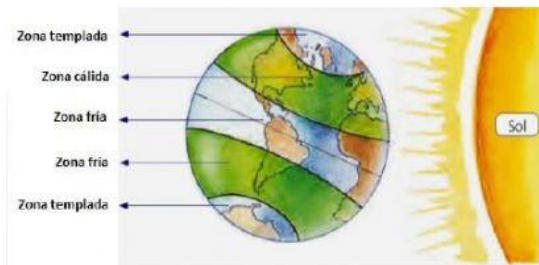
- A) Zona cálida
- B) Zona fría
- C) Zona templada
- D) Zona tropical.

C. Observa las imágenes y selecciona la que indica correctamente la distribución de las zonas climáticas de la tierra.

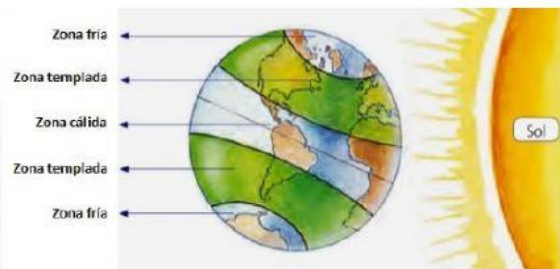
A)



B)




C)



D) Observa la siguiente imagen y luego responde.

¿Qué zona climática se destaca en la imagen?



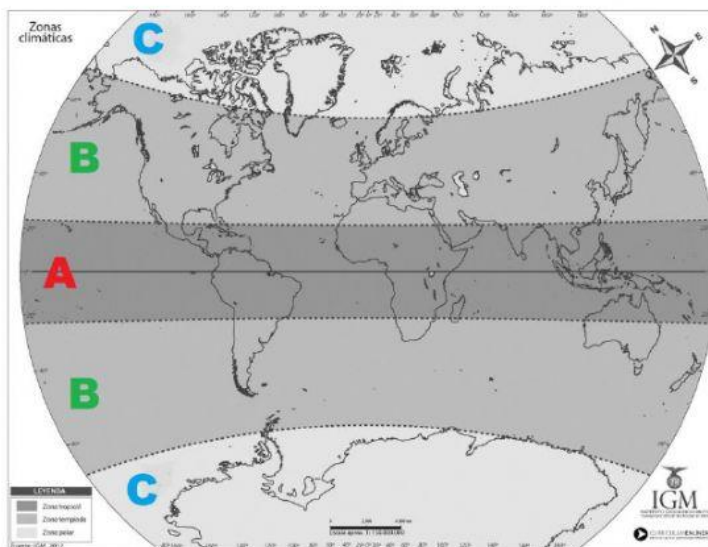
- A) Zona intertropical o cálida.
- B) Zona fría del sur.
- C) Zona templada
- D) Zona fría.

E) Observa la siguiente imagen y responde ¿a qué zona climática pertenece este tipo de paisaje?



- A) Zona cálida.
- B) Zona templada.
- C) Ninguna de las anteriores.

Observe la siguiente imagen y luego responda.



F) ¿Qué zona climática está identificada con la letra B?

- A) Cálida
- B) Templada
- C) Fría
- D) Polar

G) Observe atentamente las siguientes imágenes ¿a qué zona climática corresponden estos paisajes?



- A) Zona templada
- B) Zona fría
- C) Zona cálida
- D) Zona fría sur

Lee atentamente el siguiente texto y marca con una X la respuesta correcta 12 pts.

La forma en que los seres humanos han adaptado su vida a las diversas zonas climáticas y paisajes del mundo

Los seres humanos tienen la **capacidad de adaptarse** a su entorno. Esto es, acomodar su forma de vida al contexto geográfico que habita. Por esta razón, podemos encontrar comunidades que habitan tanto la cordillera, como el desierto o los fríos extremos del clima polar.

El ser humano es inteligente porque es capaz de reflexionar y dar soluciones creativas a los diversos "problemas" que se le presentan. Un ejemplo de ello, son las diferentes **estrategias** que las sociedades han elaborado para poder vivir en lugares que son hostiles, como la selva. Entendemos por estrategia al **conjunto de medidas o acciones que las personas implementan para obtener lo que quieren**.



H) 1. La adaptación según el texto es una "capacidad de adaptarse al entorno" es decir:

- A. Acostumbrarse a un clima y paisaje que le entrega todo lo que necesita.
- B. El contexto geográfico que habita lo acomoda a su forma de vida.
- C. Emigrar hacia diferentes lugares buscando el entorno ideal.
- D. Desarrollar la capacidad de acomodar su forma de vida al contexto geográfico.

2. El ser humano es capaz de habitar los distintos paisajes y climas de la tierra esto es porque...

- A) Posee la suficiente inteligencia para reflexionar y resolver los problemas que el entorno le presenta.
- B) No quiere ir de un lugar a otro y decide quedarse en cualquier lugar.
- C) Es un ser con habilidades diferentes a otro seres vivos.
- D) Ninguna de las anteriores.

3. “La selva es un lugar en el cual la forma de vida se hace difícil ya que el entorno geográfico y el clima son hostiles y difíciles de adaptar para el ser humano”, respecto de lo anterior que crees que es lo más difícil de solucionar por el hombre al vivir en la selva:

- A. El difícil acceso a agua y a los recursos naturales.
- B. El clima y sus características.
- C. La vegetación y el convivir con animales salvajes.
- D. Todas las anteriores.



PAUTA DE EVALUACIÓN ENSEÑANZA REMOTA

Asignatura: Historia, Geografía y Ciencias Sociales

Curso: Tercero Básico. Docente: Patricia Alarcón Valenzuela.

INDICADORES DE LOGRO	LOGRADO 100% _ 81%	MEDIANAMENTE LOGRADO 80% - 61%	POR LOGRAR 60% - 49%	NO OBSERVADO 48% - 0%
Los estudiantes reconocen las zonas climáticas del planeta.				
Los estudiantes asocian zona climática y paisaje				
Los estudiantes reconocen la zona climática preponderante en Chile				
Los estudiantes desarrollan la comprensión de textos correctamente.				
Los estudiantes identifican la adaptación del vestuario de una zona climática.				

