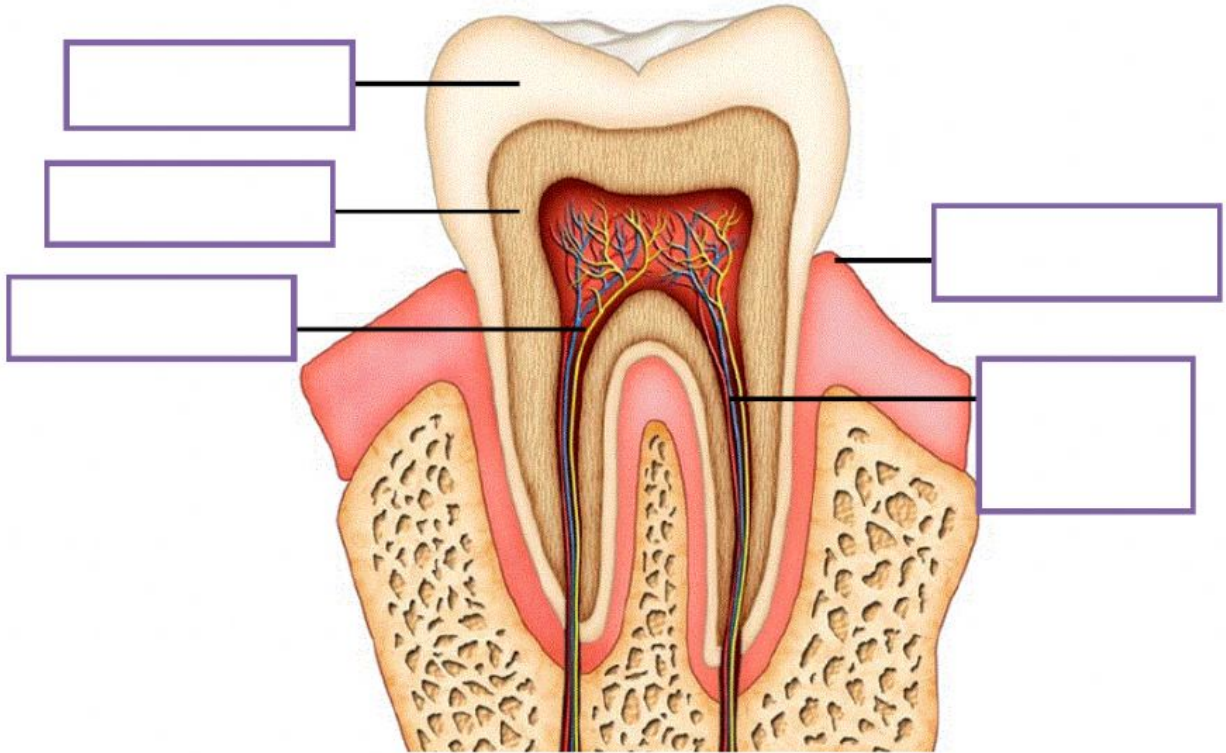


SOALAN 1

Arahan : Labelkan struktur gigi di bawah.



Gusi

Dentin

Salur
darah

Enamel

Saraf

5 MARKAH

SOALAN 2

Arahan : Padankan fungsi bagi setiap kelas makanan di bawah.

Pelawas

Karbohidrat

Vitamin
dan mineral

Protein

Lemak

Air

Memberi
tenaga

Mencegah
sembelit

Menjaga
kesihatan

Mengawal
suhu badan



Tumbesar

Memanaskan
badan

6 MARKAH

SOALAN 3


Arahan : Padankan pengkelasan haiwan – haiwan di bawah.



Haiwan yang makan tumbuh - tumbuhan

Haiwan yang makan tumbuh – tumbuhan dan haiwan lain

Haiwan yang makan haiwan lain



6 MARKAH

SOALAN 4

Arahan : Padankan kegigian haiwan di bawah.



3 MARKAH