




TIPOS DE ÁNGULOS



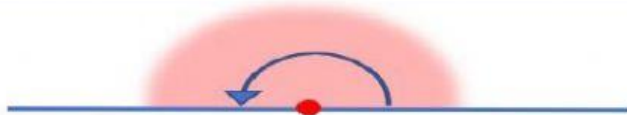
ÁNGULO RECTO



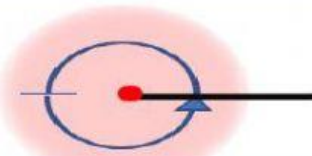
ÁNGULO AGUDO



ÁNGULO OBTUSO




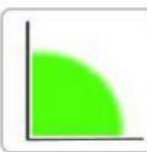
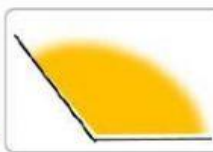
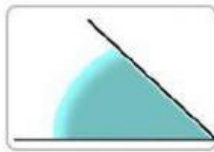


ÁNGULO LLANO



ÁNGULO COMPLETO

1. Clasifique estos ángulos según sean agudos, obtusos o rectos.



ÁNGULOS
AGUDOS



ÁNGULOS
RECTOS



ÁNGULOS
OBTUSOS



2. Complete con las palabras en cada uno de los espacios correspondientes.

LLANO COMPLETO RECTO AGUDO OBTUSO 90° CÓNCAVO

• Este ángulo  es un ángulo

• Un ángulo recto mide

• Este ángulo  se llama ángulo

• Este ángulo  es un ángulo

• Este ángulo  se llama ángulo

• Este ángulo  es un ángulo

• Este ángulo  se llama ángulo