



AULA ESPECIALIZADA DE INFORMÁTICA - 1º ANO – 14 a 18 DE JUNHO DE 2021



ALUNO(A) : _____








PROFESSORA: _____



TODOS OS NÚMEROS TÊM UM NOME. LEIA OS NOMES DOS NUMERAIS E MARQUE O NÚMERO CORRETAMENTE.



 NOVE	 CINCO	 SEIS	 DOIS	 SETE
(1) (5) (9)	(4) (5) (6)	(4) (5) (6)	(2) (4) (5)	(5) (6) (7)



MOSTRE QUE VOCÊ ESTÁ ATENTO (A) EFETUANDO AS SOMAS DOS DADOS.



$$\begin{array}{|c|} \hline \bullet \bullet \bullet \bullet \bullet \\ \hline \end{array} + \begin{array}{|c|} \hline \bullet \\ \hline \end{array} = \begin{array}{|c|} \hline \\ \hline \end{array}$$

$$\begin{array}{|c|} \hline \bullet \bullet \bullet \bullet \\ \hline \end{array} + \begin{array}{|c|} \hline \bullet \bullet \bullet \bullet \\ \hline \end{array} = \begin{array}{|c|} \hline \\ \hline \end{array}$$

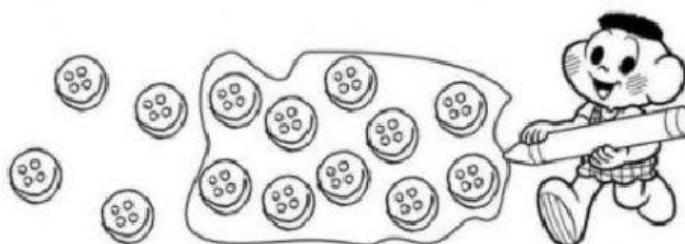


$$\begin{array}{|c|} \hline \bullet \bullet \bullet \\ \hline \end{array} + \begin{array}{|c|} \hline \bullet \bullet \\ \hline \end{array} = \begin{array}{|c|} \hline \\ \hline \end{array}$$

$$\begin{array}{|c|} \hline \bullet \bullet \bullet \bullet \\ \hline \end{array} + \begin{array}{|c|} \hline \bullet \bullet \\ \hline \end{array} = \begin{array}{|c|} \hline \\ \hline \end{array}$$



DESAFIOS MATEMÁTICOS:



O AGRUPAMENTO QUE CASCAO FEZ DOS BOTÕES É IGUAL A _____.



QUANTOS BOTÕES FICARAM DE FORA DO AGRUPAMENTO? _____

