



AULA ESPECIALIZADA DE INFORMÁTICA - 2º ANO – 14 a 18 DE JUNHO DE 2021




Aluno(a) : _____



Professora: _____



1 – A VOVÓ DE CHAPEUZINHO TEM ALGUMAS VIZINHAS NA FLORESTA. NUEMRE TODAS AS CASAS E PRESTE ATENÇÃO NA DICA PARA RESPONDER AS PERGUNTAS!



DICA: A CASA DA VOVÓ ESTÁ ENTRE A CASA 23 E A CASA 25.



QUAL É O NÚMERO DA CASA DA VOVÓ?



QUAL É A COR DA CASA DA VOVÓ?



AZUL



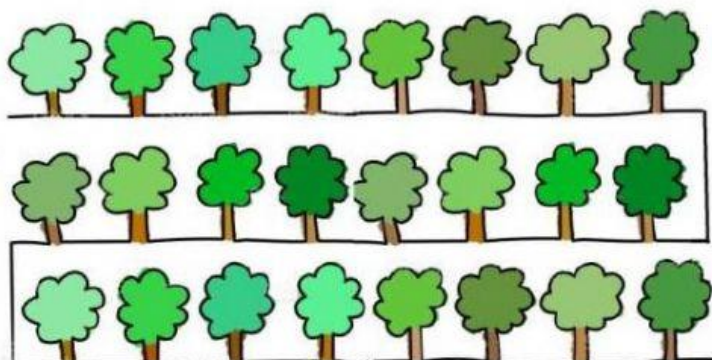
VERMELHA



AMARELA



2- NO CAMINHO PARA A CASA DA VOVÓ HÁ 24 ÁRVORES. O LOBO JÁ PASSOU POR 13 ÁRVORES. QUANTAS ÁRVORES FALTAM PARA ELE CHEGAR À CASA DA VOVÓ?

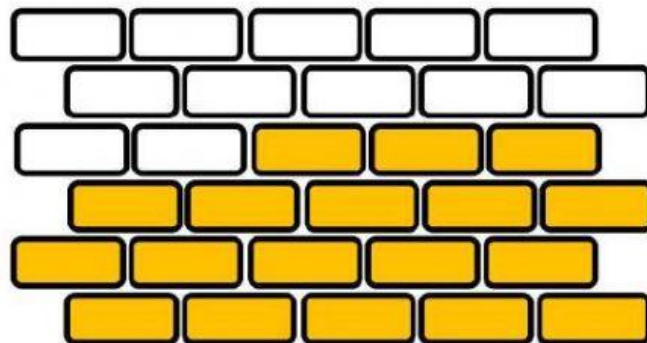


FALTAM _____
ÁRVORES.





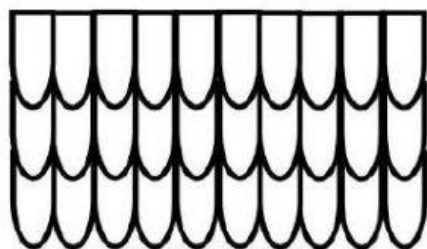
3- PARA CONSTRUIR UMA PAREDE DE UMA DAS CASAS SERÃO NECESSÁRIOS 30 TIJOLOS. O PORQUINHO JÁ ASSENTOU 18 TIJOLOS. QUANTOS TIJOLOS AINDA FALTAM PARA ELE TERMINAR A PAREDE?



FALTAM ____ TIJOLOS.



4- OS TRÊS PORQUINHOS SE UNIRAM PARA CONSTRUIR O TELHADO DE UMA DAS CASAS. O PRIMEIRO PORQUINHO COLOCOU 12 TELHAS, O SEGUNDO PORQUINHO COLOCOU 8 TELHAS E O TERCEIRO PORQUINHO COLOCOU 10 TELHAS. QUANTAS TELHAS ELES JÁ UTILIZARAM NA CONSTRUÇÃO DO TELHADO?



ELES JÁ UTILIZARAM ____ TELHAS.

<https://educacaoetransformacaooficial.blogspot.com/2020/12/apostila-na-ponta-do-lapis-2-ano-vol2.html>

