



# Contamos artesanías

Segundo grado Los Koalas

## 1. Leemos el siguiente problema :

La familia de Carlos y Adriana están orgullosos de las artesanías que elaboran. Ellos hicieron pulseras, llaveros, bolsas y portalapiceros con materiales que hay en la comunidad. Sus creaciones representan animales de la zona, para ofrecer a los turistas que visitan a Pampa Michi. ¿Cuántos productos elaboraron para vender?



llaveros



portalapiceros



pulseras




bolsas

## 2. Responde:

¿Qué productos elaboran la familia?

¿Qué nos pide resolver en el problema?

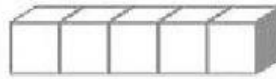
## 3. Resuelvo el problema :

a) Pinta  un por cada artesanía que elaboró la familia de Carlos y Adriana.

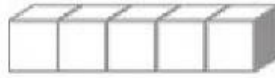


Un  = 1

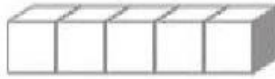
pulseras



llaveros



portapapiceros



bolsas



4. Representa gráficamente la cantidad de artesanía. Une con una línea.

pulseras



portapapiceros





bolsas



llaveros



5. Colorea en la regleta la cantidad de artesanías.



pulseras

llaveros

bolsas

portapapiceros

Total

$$\textcircled{3} + \textcircled{\phantom{0}} + \textcircled{\phantom{0}} + \textcircled{\phantom{0}} = \textcircled{\phantom{0}}$$

Total

¿Cuántos productos elaboraron para vender? *Escribe*

En total elaboraron  productos.

6. Escribe tus respuestas

¿Cuál es el producto que más elaboraron?

¿Cuál es el producto que elaboraron menos?