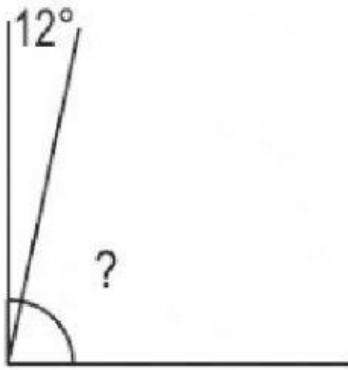


SUMAR ÁNGULOS (Ampliación)

Este ángulo recto (90°) está formado por dos ángulos.



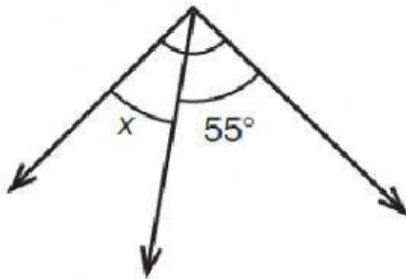
- Un ángulo mide 12°
- ¿Cuánto medirá el otro?

Para calcularlo debemos hacer la siguiente resta:

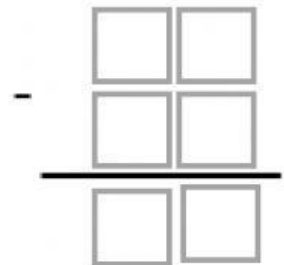
$$90^\circ - 12^\circ = 78^\circ$$

Calcula el ángulo que falta

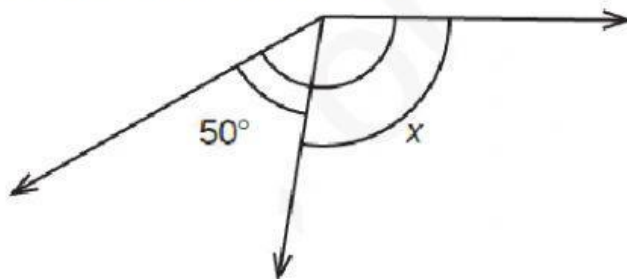
- i) El ángulo mayor mide 90° .




$$x = \underline{\hspace{2cm}} = \underline{\hspace{2cm}}$$



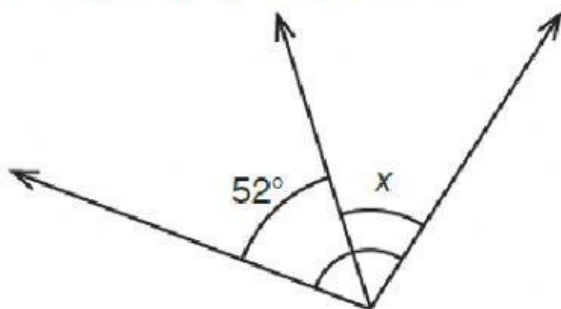
- ii) El ángulo mayor mide 150° .



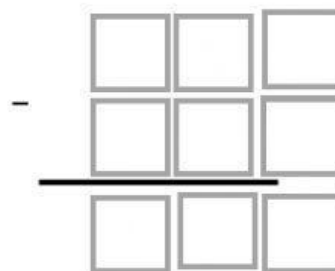
$$x = \underline{\hspace{2cm}} = \underline{\hspace{2cm}}$$



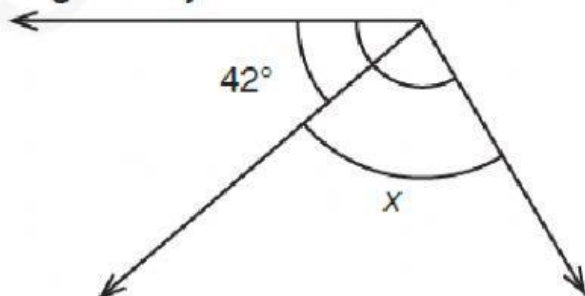
iii) El ángulo mayor mide 103° .



$$x = \underline{\hspace{2cm}} = \underline{\hspace{2cm}}$$



iv) El ángulo mayor mide 123° .



$$x = \underline{\hspace{2cm}} = \underline{\hspace{2cm}}$$

