





# SUMAS


RESOLVER:





$$8 + 1 =$$



$$3 + 2 =$$



$$4 + 1 =$$



$$7 + 3 =$$


$$6 + 4 =$$


$$2 + 4 =$$


$$3 + 3 =$$


$$3 + 1 =$$


$$5 + 2 =$$


$$2 + 6 =$$

# RESTAS

ME LEEN LOS PROBLEMITAS.

COMPLETO LA CUENTA Y RESUELVO.

**A** Hay 6 manzanas y me como 2. ¿Cuántas quedan?



$$6 - 2 = \square$$

**B** Hay 5 huevos y se rompe 1. ¿Cuántos quedan?



$$\square - \square = \square$$

**C** Tenía 10 magdalenas. Si me como 3. ¿cuántas me quedan?



$$\square - \square = \square$$

**D** Tengo 9 globos y explotan 3. ¿Cuántos quedan?



$$\square - \square = \square$$