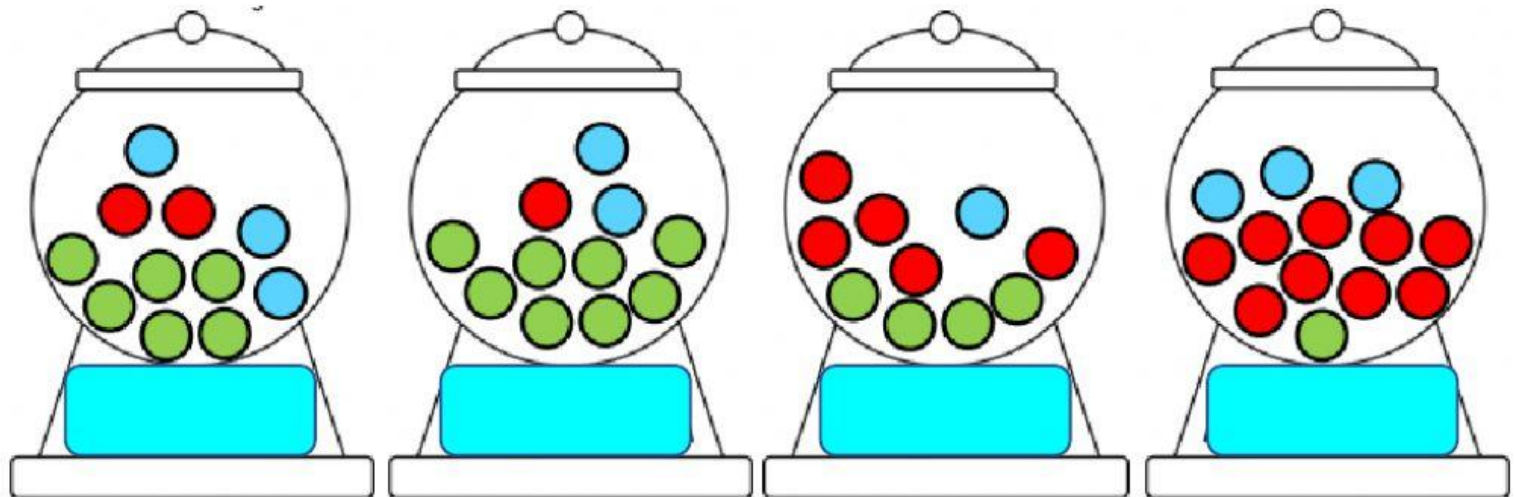
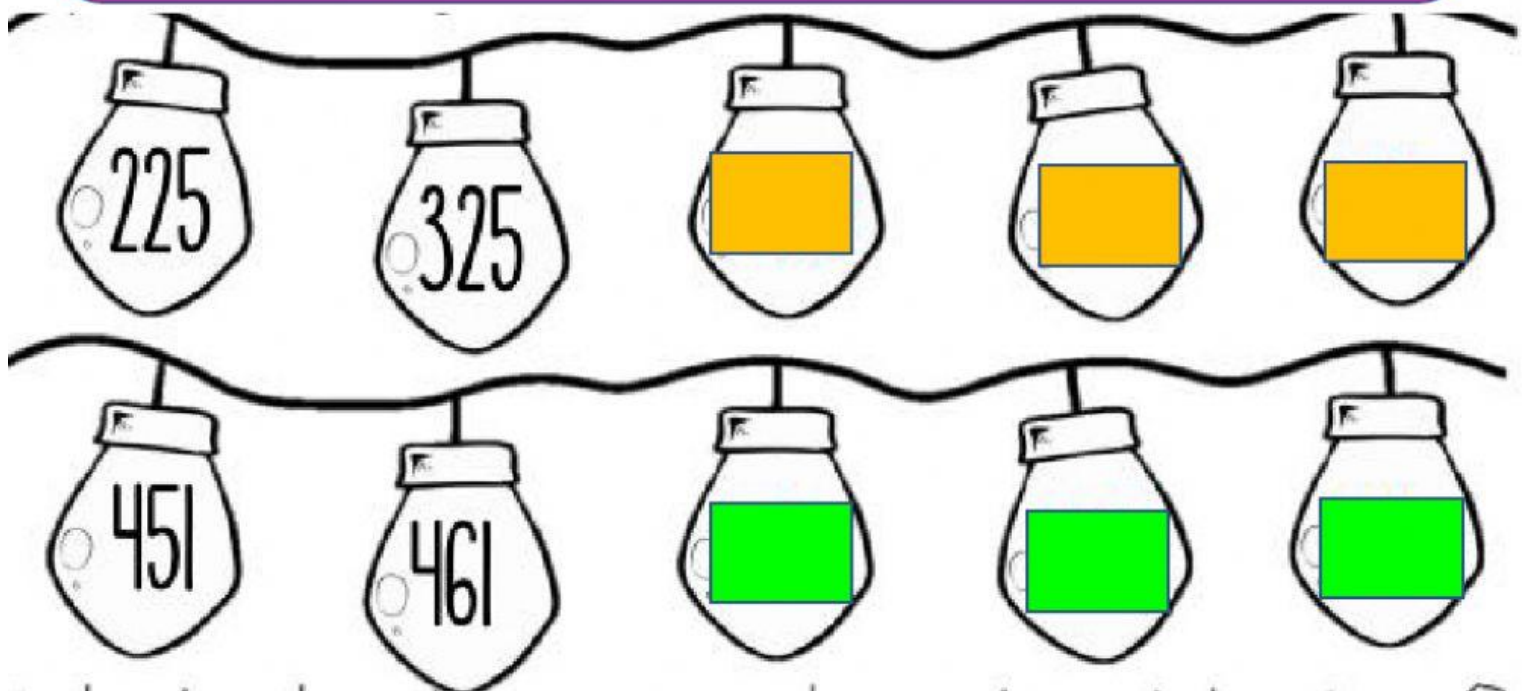


1. Observa las imágenes y cuenta la cantidad de chicles que indica cada una. **RECUERDA** el color de las fichas.



2. Completa las siguientes series. **RECUERDA** cuenta de 10 en 10 o de 100 en 100



3. Cuenta el dinero que hay en cada alcancía, escribe la cantidad y selecciona la alcancía que tiene más

anótalo.




4. Utiliza los números de las tarjetas y forma 3 diferentes números con cada juego.

6 7 2


8 6 4

7 5 3

5. Selecciona el tipo de medidas que se encuentran en cada imagen.




6. Observa las imágenes y completa la tabla.



Cajas con 100



Bolsas con 10



Sueltas

Pedidos	Cajas	Bolsas	Sueltas
345			
782			
492			



6. Resuelve las siguientes sumas y relaciónalas con su resultado.

$$\begin{array}{r} 152 \\ + 325 \\ \hline \end{array}$$

767

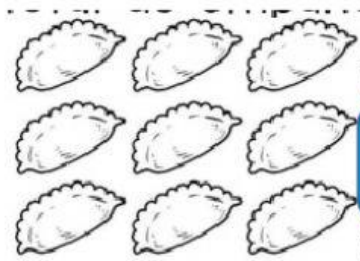
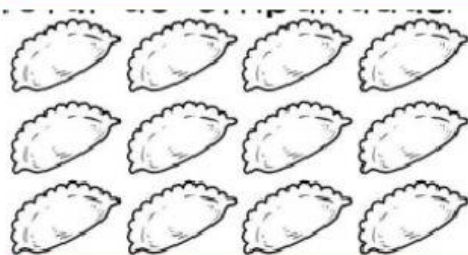
$$\begin{array}{r} 432 \\ + 245 \\ \hline \end{array}$$

477

$$\begin{array}{r} 641 \\ + 126 \\ \hline \end{array}$$

677

7. Selecciona la multiplicación con la que calculas el total de empanadas.



8. Observa los precios de la tienda de ropa y contesta las preguntas.



¿Cuánto pagará Marco por una camisa y una gorra?

RESPUESTA:

Sandra compró una falda y pago con 1 billete de 100 y 1 de 200 ¿Cuánto le sobró?

RESPUESTA: