



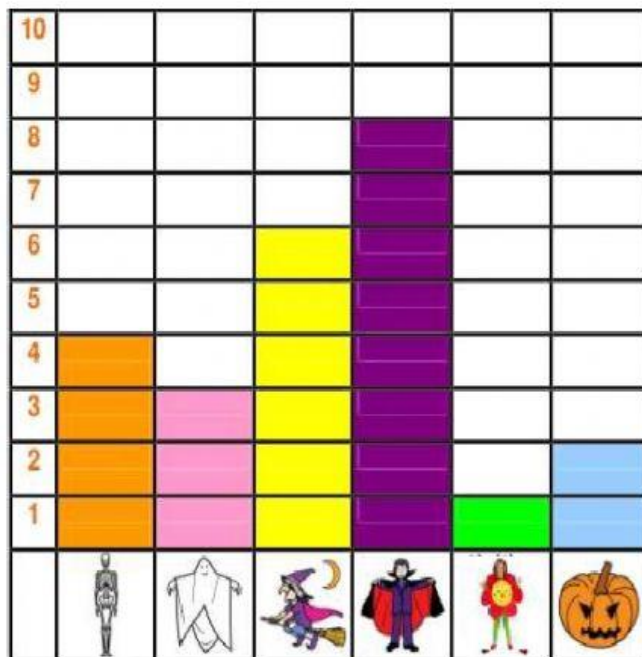
VALORACIÓN ACADÉMICA II PERIODO

Asignatura: Estadística.







Profesora: Laura Jimena Trujillo Nieva

Grado: Segundo

1. Observa el siguiente diagrama de barras.



a) Completa la tabla de frecuencia.

DISFRAZ						
Niños/as						

b) Contesta las preguntas:

- ¿Cuál es el disfraz que más han usado los niños/as?
- ¿Cuántos niños en total se disfrazaron?

c) Escribe V si es verdadero o F si es falso.

- Cuatro personas se disfrazaron de esqueleto. (___)
- El disfraz que menos usaron ha sido el de la calabaza. (___)
- En total se disfrazaron 24 niños. (___)
- El disfraz que más usaron fue el de fantasma. (___)









Colegio La Estrellita

Nuestro Compromiso es Educar con Calidad Humana







Preescolar y Básica Primaria
Resolución Oficial No.004110 de 2000

2. Observa la siguiente tabla de frecuencia y completa el diagrama de barras.

En la siguiente tabla muestran la fruta favorita de los estudiantes del grado segundo de un colegio.

						
Niños/as	5	3	10	2	6	4

a) Realiza el diagrama de barras.

10						
9						
8						
7						
6						
5						
4						
3						
2						
1						
						

b) Responde las siguientes preguntas.

- ¿Cuántos estudiantes hay en el grado segundo de ese colegio?

- ¿Cuál es la fruta favorita?

- ¿Cuál es la fruta que menos gusta a los niños?

- ¿Cuántos niños prefieren la pera?