


|  |                        |
|--|------------------------|
| <b>ESCOLA MUNICIPAL CONSELHEIRO JOSINO</b>   |                        |
| <b>LABORATÓRIO DE TECNOLOGIAS DIGITAIS</b>   | <b>Turma: Pré II</b>   |
| <b>Aluno (a):</b>  | <b>Data:</b>           |
| <b>Professor (a):</b> Andréa Jardim  | <b>Código: EI03T01</b> |
| <b>Campo do Conhecimento:</b> Espaços, tempo, quantidade, relações e transformações. |                        |
| <b>Habilidades:</b> Estabelecer relações de comparação entre objetos e quantidades.  |                        |

# NÚMEROS E QUANTIDADES



- ASSISTA O VÍDEO:



■ VAMOS RELEMBRAR OS NÚMEROS CONTANDO:

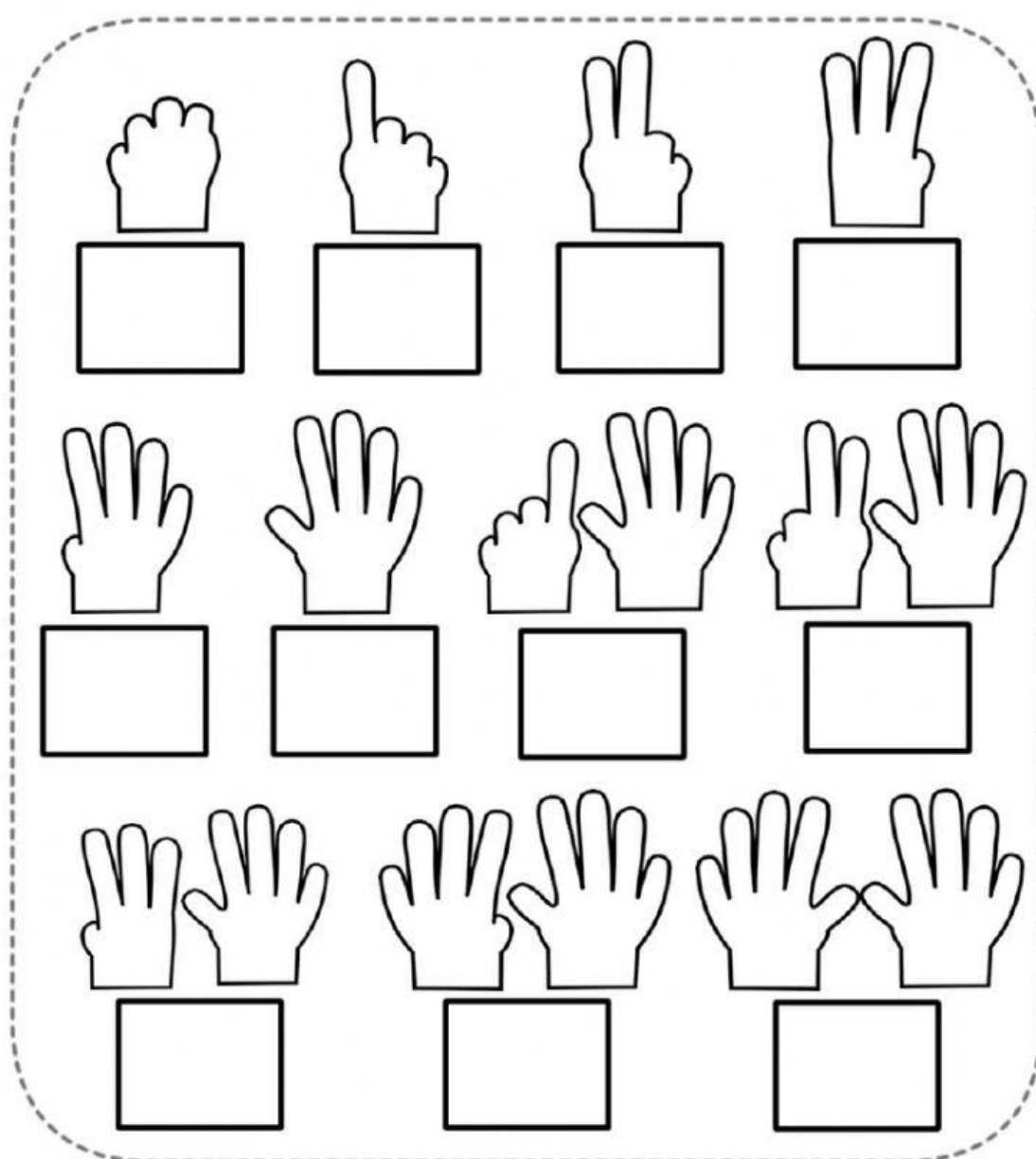









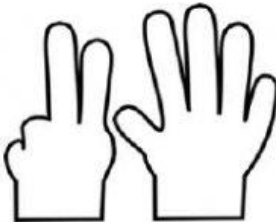



■ AGORA CONTE OS OBJETOS E REGISTRE O NÚMERO QUE CORRESPONDE A QUANTIDADE.



# 1 2 3 ... DEDINHOS

- SIGA O EXEMPLO DOS DEDINHOS, CONTE E ESCREVA O NUMERAL:



|   |   |  |   |
|---|---|--|---|
|    |    |     |    |
| <input type="text"/>  | <input type="text"/>  | <input type="text"/>   | <input type="text"/>  |
|  |  |  |  |
| <input type="text"/>  | <input type="text"/>  | <input type="text"/>   | <input type="text"/>  |
|  |  |  |   |
| <input type="text"/>  | <input type="text"/>  | <input type="text"/>   |   |