

Nombre del estudiante: _____

Docente: _____

Clase: _____

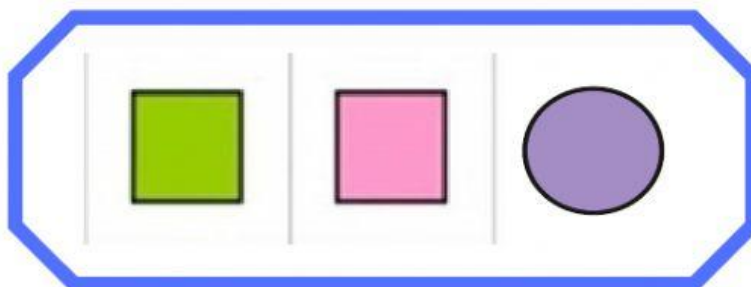

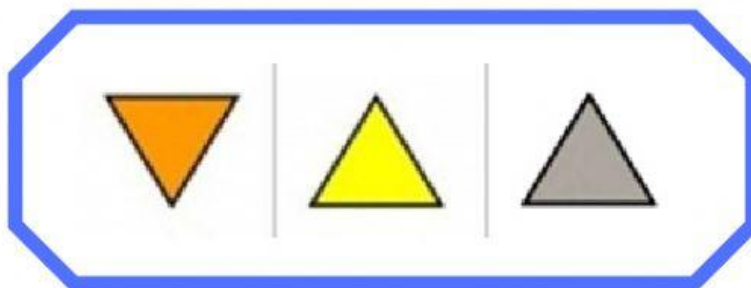



Día: _____

Ficha interactiva

1. Completa las operaciones matemáticas en los recuadros vacíos.

3	x		=	24		22			
	+					+			
	7					23	+		= 38
	=					=			
		x	3	=					
						:			
							x	7	=
						=			-
12	-		=	5					27
:									=
						9	x		= 36
						:			
=									
2		15	x		=	45			
					=				
					3				

2. Observa la secuencia y selecciona el elemento que continúa..



3. Resuelve las operaciones y luego arrastra cada pieza en su lugar.

$36 : 4$	$26 - 11$	16×15	$25 - 13$
19×2	$80 : 8$	$13 + 20$	$22 - 17$

