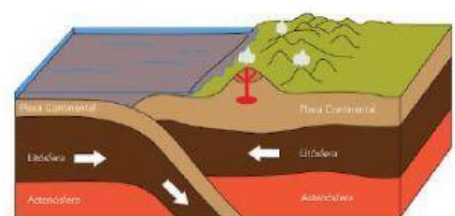
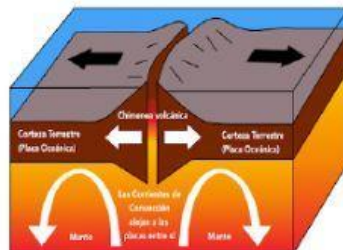
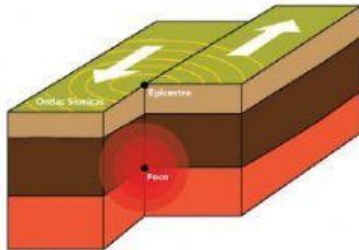


**Semana 3**

Nombre: \_\_\_\_\_ Fecha: \_\_\_\_\_

Instrucciones: Lea cada apartado y realice lo que se le solicita.

A) Relacione el tipo de límite con la imagen que le corresponde.



<b>Límite divergente</b>	
<b>Límite convergente</b>	
<b>Límite transformante</b>	

B) Responda a las siguientes Preguntas:

¿Qué es un terremoto?

¿Qué es un sismo?

¿Cómo se llama el instrumento que mide los terremotos?

C) Escriba el nombre del desastre natural mostrado.





