

LA MULTIPLICACIÓN COMO SUMA DE SUMANDOS IGUALES

¿Cuántos dedos hay en total?



En cada mano hay 5 dedos y tenemos 3 manos.


Suma $5 + 5 + 5 = 15$

Multiplicación $5 \times 3 = 15$

En total hay dedos.



1. ¿Cuántos dedos hay?



Suma + + =

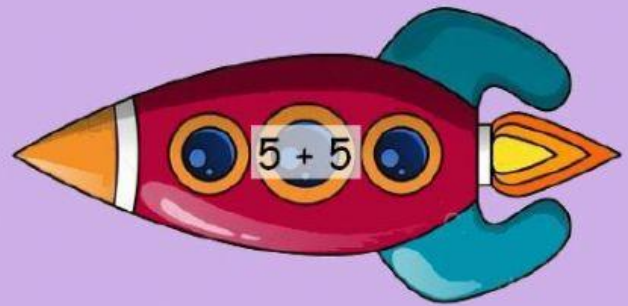
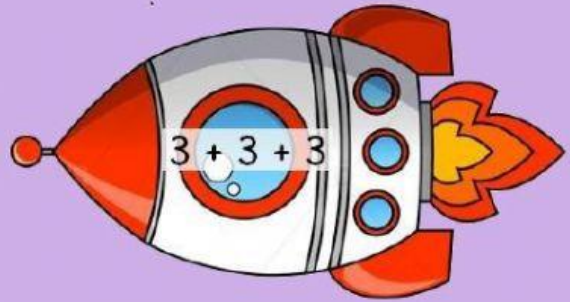

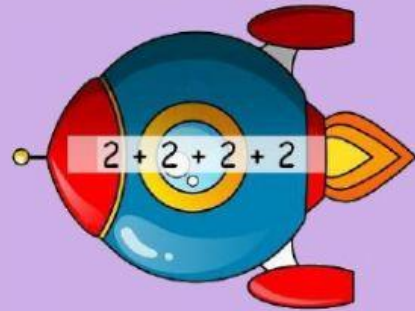
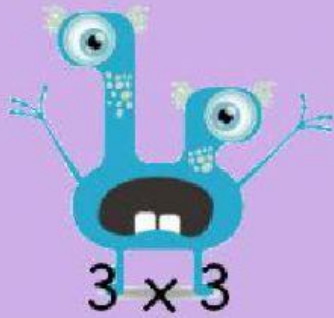
Multiplicación × =



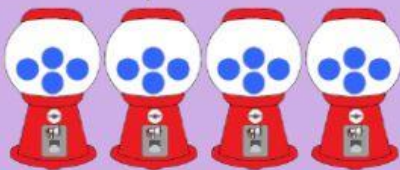
Suma + + + =

Multiplicación × =

2. Une cada marcianito con su nave correspondiente.



3. Cuenta y completa la suma y la multiplicación. ¿Cuántos chicles hay en cada grupo de máquinas?



$$\square + \square + \square + \square = \square$$

$$\square + \square + \square + \square + \square = \square$$

$$\square \times \square = \square$$

$$\square \times \square = \square$$