

EVALUACIÓN 4º PARCIAL DE ESTUDIOS SOCIALES

Observe las imágenes y señale cuales es la respuesta correcta

1.-Seleccione solo las imágenes que representan las actividades escolares.



ESTUDIAR



COCINAR




ESCRIBIR



PLANCHAR


2.-Seleccione solo las imágenes que representen los servicios públicos.



Gas

Luz eléctrica

Teléfono

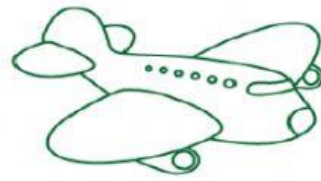



Agua

Transporte

Recolección
de basura

3.- Relacione los medios de transporte con su clase.



Terrestre

Aéreo

Acuático

4.-Ubique cada servidor público en su función.



Seguridad

Cura personas.

Enseña

Combate incendios