

Hari: .....

Tarikh: .....

# UNIT II

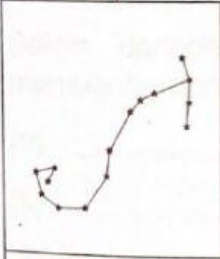

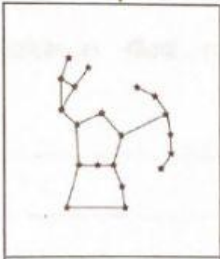
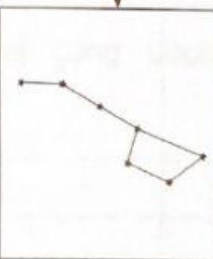
## Buruj

Halaman Buku Teks: 177 - 188

### Apakah Buruj?

### Buruj di Langit Malam

**A** Nyatakan maksud buruj dan namakan buruj di bawah dengan betul. **SP 11.1.1** **SP 11.1.2** **TP 1** **TP 2**

Buruj			
<hr/> <hr/> <hr/>			
			
1.	2.	3.	4.

**SP 11.1.1** Menyatakan buruj ialah gugusan bintang yang kelihatan membentuk sesuatu corak tertentu

**SP 11.1.2** Mengenal pasti bentuk buruj seperti Belantik, Biduk, Pari dan Skorpio

**TP 1** Menyatakan maksud buruj

**TP 2** Mengenal pasti buruj

Tandatangan Guru:

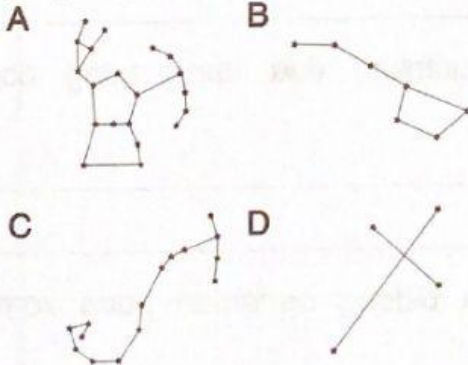
89

# Praktis UPSR 11

## UNIT 11

- Apakah yang dimaksudkan dengan buruj?
  - Gugusan Bulan yang membentuk cahaya pada waktu malam
  - Gugusan bintang yang membentuk corak di langit pada waktu malam
  - Gugusan bintang yang bercahaya yang kelihatan pada waktu siang
  - Gugusan bintang yang bercahaya yang kelihatan pada waktu malam

- Buruj yang manakah mempunyai bentuk seperti kala jengking?



- Antara berikut, buruj yang manakah boleh dilihat di hemisfera utara dan selatan?
  - Belantik
  - Pari
  - Skorpio
  - Biduk
- Rajah I menunjukkan seorang petani sedang menanam padi.



Rajah I

Antara berikut, buruj yang manakah akan menunjukkan masa untuk menuai bagi petani tersebut?

- Biduk
- Belantik
- Pari
- Skorpio