

Nama : _____


Tanggal : _____

Kelas : _____


LKPD GARIS & SUDUT

Kerjakanlah sesuai perintah!

1. Ada seorang anak bernama Adit dia memiliki binatang periharaan dirumahnya, langkah pertama bantulah dia menghubungkan hewan tersebut sesuai dengan makanannya?



Langkah selanjutnya coba kalian perhatikangambar diatas membentuk sebuah apa, setelah itu tuliskan apa yang kalian pikirkan dari gambar diatas dapat membentuk sebuah apa dan coba kalian jelaskan secara lengkap?

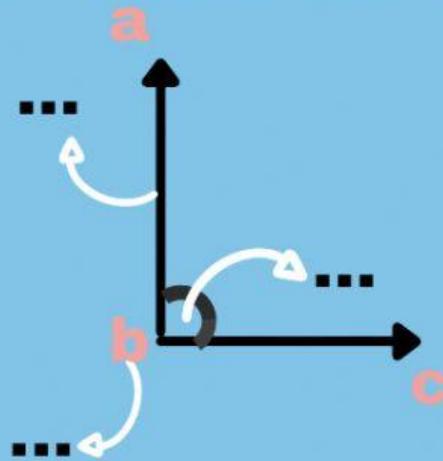




2. Saat pelajaran olahraga Dinda baru selesai pembelajaran berlari, setelah selesai berlari ia langsung beristirahat dengan meluruskan kakinya. Coba kalian perhatikan ilustrasi tersebut terlebih dahulu?



lengkapi titik-titik dibawah ini!



Jadi, coba kalian jelaskan mengenai konsep matematika apa yang dijelaskan?

SUDUT
.....

3. Gambarlah!

SUDUT SIKU-SIKU=...*

SUDUT LANCIP=...*

SUDUT TUMPUL=...*

SUDUT LURUS=...*

SUDUT REFLEKS=...*

