

¿QUÉ BILLETE ME TIENES QUE DAR?

Tienes que sumar o restar los billetes, es decir, la duración de cada figura o silencio y hacer las operaciones que te mandan) que te doy en cada apartado y tú devolverme el resultado en un único billete, por ejemplo:

a)  +  -  =  (Ejemplo)

b)  +  +  =

c)  -  -  =

d)  +  -  =

e)  +  + =

f)  +  +  =


g)  -  -  =





h)  +  +  =

i)  +  -  =




j)  +  +  =

k)  -  +  =

l)  +  =

m)  +  +  +  =

n)  +  +  +  =

o)  +  -  =

p)  +  =

Para arrastrar y colocar la correcta en cada apartado:



