


ESTIMAMOS CANTIDADES

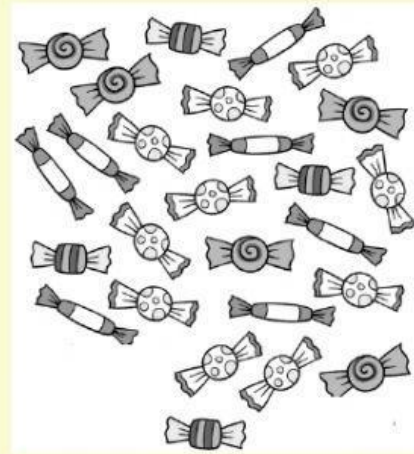


1. ¿Cuántos pisos estimas que hay en este edificio?

- ☐ a. Más de 10.
- ☐ b. Menos de 10.
- ☐ c. Cerca de 20.

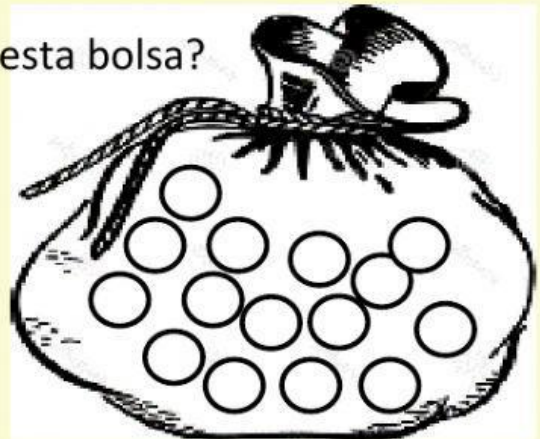
2. ¿Cuántos caramelos estimas que hay?

- ☐ a. Menos de 30.
- ☐ b. Menos de 15.
- ☐ c. Menos de 5.




3. ¿Cuántas canicas estimas que hay en esta bolsa?

- ☐ a. Alrededor de 5.
- ☐ b. Más de 10.
- ☐ c. Más de 30.

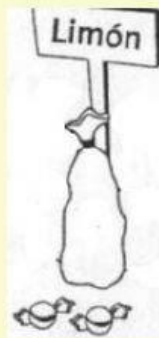



4. ¿Cuántos cilindros estimas que hay en este grupo?

- ☐ a. Alrededor de 20.
- ☐ b. Menos de 10.
- ☐ c. Más de 30.



5. En el mercado la vendedora empaqueta cada elemento en bolsa de 10 unidades. Estima la cantidad de cada elemento. Uniando con líneas de colores.

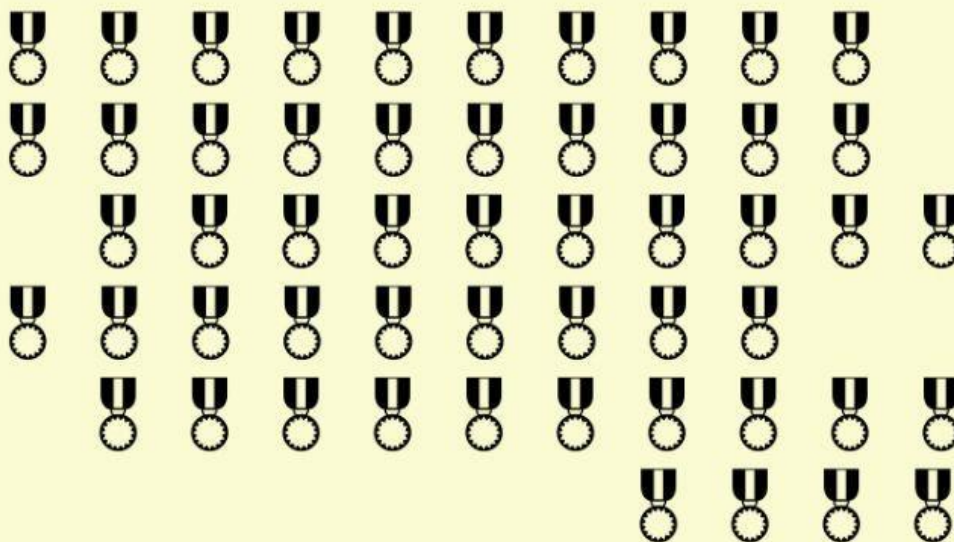


Hay menos de 20.

Hay menos de 50.

Hay más de 50.

6. Observen las imágenes: estima, cuenta y responde.



Yo estimo que hay o .

7. Cuenta y contesta:

¿Cuántas medallas hay en total? _____

¿Cuántas decenas se puede formar con las medallas? _____