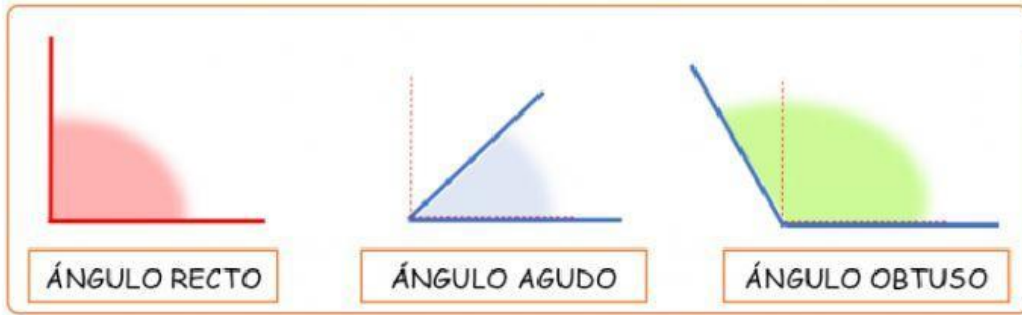





# TIPOS DE ÁNGULOS




1. Clasifica estos ángulos según sean agudos, obtusos o rectos.



ÁNGULOS AGUDOS 

ÁNGULOS RECTOS 

ÁNGULOS OBTUSOS 

2. Completa con estas palabras:

LLANO

COMPLETO

RECTO

AGUDO

OBTUSO

90°

• Este ángulo  es un ángulo

• Un ángulo recto mide

• Este ángulo  se llama ángulo

• Este ángulo  es un ángulo

• Este ángulo  se llama ángulo

• Este ángulo  es un ángulo

3. Escribe verdadero (V) o Falso (F) en las siguientes afirmaciones:

• Un ángulo que mide 90° es recto.

• Si un ángulo mide 75° es un ángulo obtuso.

• Los ángulos que miden más de 90° se llaman obtusos.

• Todos los ángulos agudos miden 45°