



EVALUACION MENSUAL CIENCIA Y AMBIENTE UNIDAD III

1. Lee y marca la respuesta correcta sobre el cuidado de los músculos
- a) El sistema circulatorio se encarga de llevara todo nuestro cuerpo
- alimento Alimento y oxígeno Oxígeno
- b) La sangre viaja por unos tubitos llamados
- vasos mangueras Vasos sanguíneos
- c) es el órgano más importante del sistema circulatorio
- Corazón Pulmón Cerebro
- d) Es un líquido de color rojo
- pus Aire Sangre

2. Une con líneas las afirmaciones con su respuesta.

- a) órgano encargado de bombear la sangre
- b) Lleva la sangre oxigenada
- c) lleva la sangre con CO_2
- d) el corazón es un

Venas

Corazón

Musculo

Arterias

Miss Suhail Eyzaguirre

"Mayor exigencia, mejores resultados"



3. Coloca verdadero (V) o falso (F) según corresponda.

a) El sistema circulatorio está formado por el corazón, el estómago y los vasos sanguíneos. ()

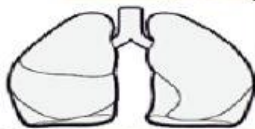
b) El corazón bombea la sangre. ()

c) La sangre contiene muchos nutrientes. ()

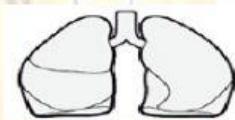
d) La sangre es de color amarillo. ()

4. Marca la respuesta correcta

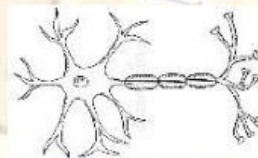
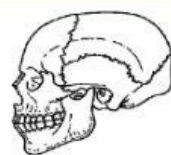
a) protege al cerebro



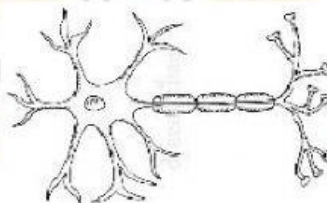
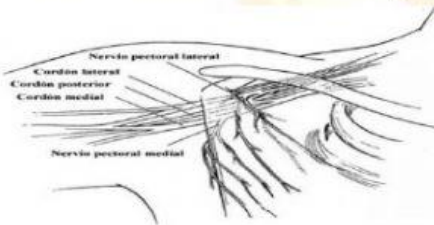
b) Recibe mensajes y da ordenes



c) Comunica los estímulos del exterior



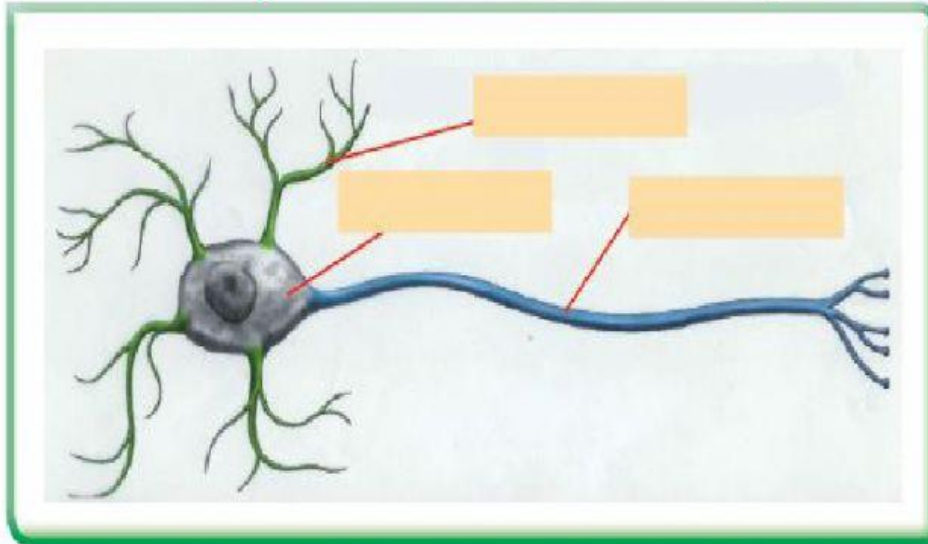
d) Son cordones blancuzcos distribuidos por todo nuestro cuerpo



Miss Suhail Eyzaguirre



5. *Observa y coloca el nombre de cada parte de la neurona señalado.*



Núcleo

dendritas

Axon

6. *Observa y coloca la respuesta correcta*

- *Debemos escuchar música a volumen alto.*
- *El cerebro tiene dos hemisferios.*

Sí

No

Sí

No

7. *Responde*

a) *Etapa de 0 - 6 años*

b) *Etapa de 60 años a más*

c) *Etapa en la que se tiene una profesión y una familia*

d) *Etapa de 7 - 10 años*

Miss Suhail Eyzaguirre

"Mayor exigencia, mejores resultados"



8. Coloca verdadero (V) o falso (F) según corresponda.

- a) El bebe puede ir al colegio por sí solo. ()
- b) Tu abuelito está en la etapa de la ancianidad. ()
- c) Papá y mamá se encuentran en la adolescencia. ()
- d) A los 10 años estoy en la etapa de la niñez. ()

9. Une con líneas las etapas de desarrollo



infancia



niñez



adolescencia



juventud



adulthood



ancianidad

10. Señala las partes del sistema respiratorio.

- a) Al estar limpio mi cuerpo se mantiene
- b) Para lavarme las manos utilizo
- c) Al tener mis manos limpias cuido mi

Miss Suhail Eyzaguirre