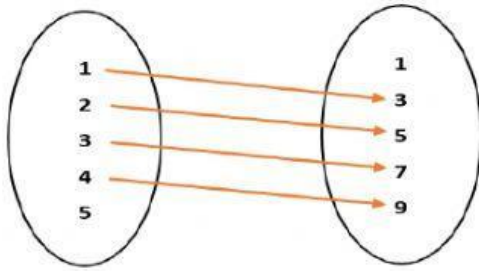


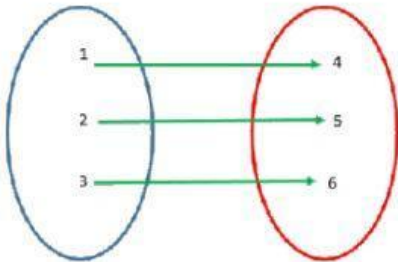
1. Identifica si es una función



No es una
función

Si es una
función

2. ¿Qué tipo de función es?



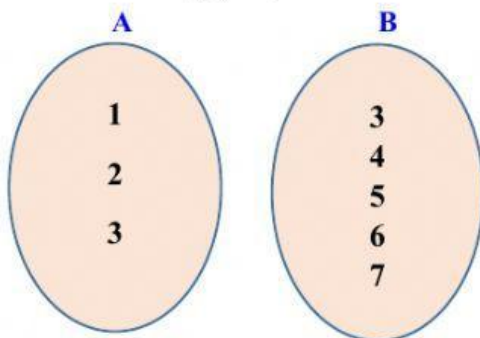
a	$F(a)$
1	4
2	5
3	6

Función real

Función lineal

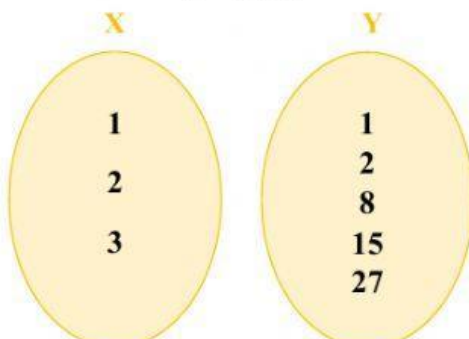
3. Resuelve las siguientes funciones.

$$f(a) = a + 2$$



a	$f(a)$

$$y = f(x)^3$$



x	$f(x)$