

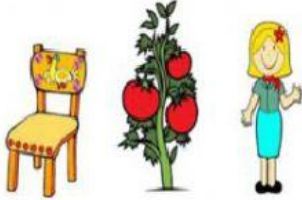
Soal evaluasi
Kelas 1 tema 7 subtema 1 pembelajaran 5

Nama:

No Absen:

A. Pilihlah jawaban yang paling benar

1.



Benda tidak hidup pada gambar di samping adalah ...

- A. orang
- B. tomat
- C. kursi

2.



Benda hidup pada gambar di samping adalah ...

- A. kucing
- B. pensil
- C. buku

3.



Gambar tanaman di samping, menunjukkan salah satu ciri benda hidup yaitu ...

- A. bergerak
- B. bertambah besar
- C. berbunga

B. Jodohkan dengan menarik garis

bertambah banyak

bertambah besar

tumbuh


anak

keturunan

berkembangbiak

Isilah dengan tepat


4.



Banyaknya buah apel pada gambar di samping adalah


5. Angka 6 pada bilangan **76**, menempati tempat .

6.



Banyaknya balok puluhan pada gambar disamping adalah

7.



Perhatikan gambar di samping
jumlah semua kubus adalah
jumlah puluhannya ada
jumlah satuannya ada