

EVALUACIÓN DE MATEMÁTICA





¿Cuál es el mayor número que se puede formar con estos tres dados?



Escribo su nombre:

2

¿Cuál es el menor número que se puede formar con estos tres dados?




Escribo su nombre:



En esta recta numérica se pueden representar los números ordenados del 100 al 200.

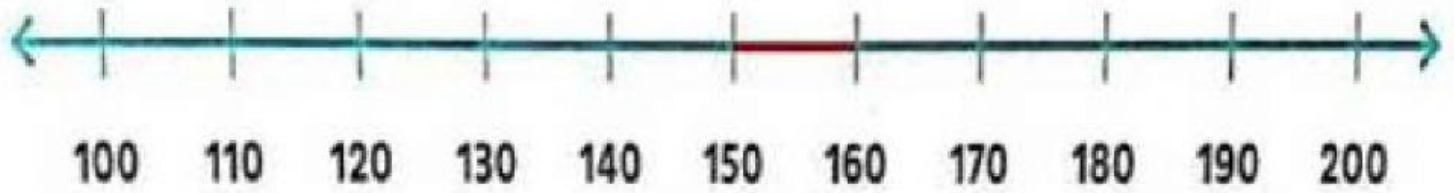


Selecciona el número ciento treinta.




B

¿Dónde iría en la recta, aproximadamente, el número: 159?



C

¿y el 185?





¿Es cierto que el número ciento cuarenta y dos va entre el 140 y el 150?



¿Cuál de estos números es el...

♥ Cuatrocientos veintiocho → **40028 - 428 - 482**

♥ Seiscientos treinta y nueve → **693 - 600309 - 639**

♥ Ochocientos ocho → **8008 - 880 - 808**



Ordeno de menor a mayor:

459 - 549 - 808 - 880 - 901 - 109

--	--	--	--	--	--



Escribí los resultados de estos cálculos.

SUMAR Y RESTAR 10	SUMAS DE "DIECES" IGUALES	SUMAS DE "CIENES" IGUALES
$80 + 10 =$	$30 + 30 =$	$300 + 300 =$
$49 - 10 =$	$20 + 20 =$	$200 + 200 =$



Completa el siguiente cuadro.

CIEN MENOS	NÚMERO	CIEN MÁS
	409	
	564	
	823	

