

UNIDAD EDUCATIVA "DR. CARLOS FERNANDO ALOMOTO AYALA"

Lic. Mishel Saltos- Docente de Matemática

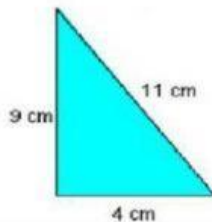
Nombre:

Curso:

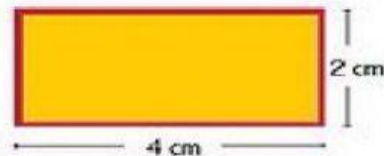
Fecha:

El perímetro

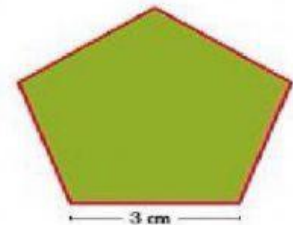
Calcula el perímetro de los siguientes polígonos y escribe el resultado. Hay que poner el número y cm, m ... o lo que corresponda sin dejar espacio para que la página lo corrija bien.



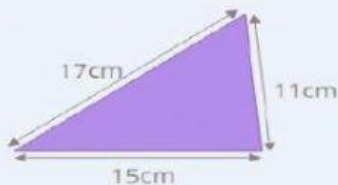
P=



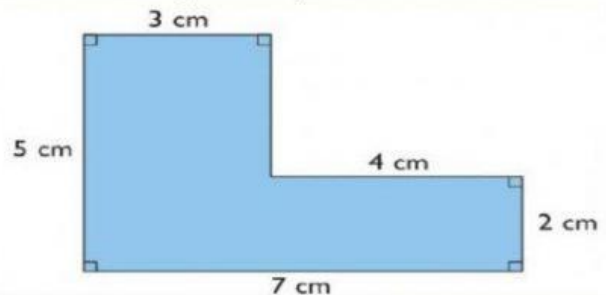
P=



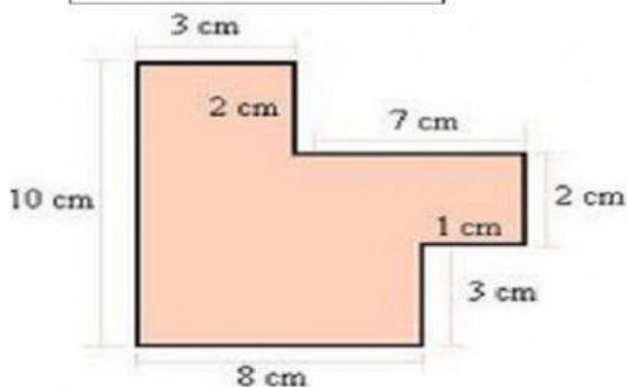
P=



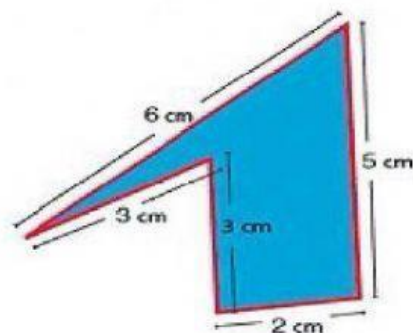
P=



P=



P=



P=