



Área
Matemáticas

DOCENTES:

ING. GLUBIS A.

LIC. VICTOR L.

PARALELOS

TERCERO CIENCIAS A, B, C, D, E

TÉCNICO A, B



ECUACIÓN PARAMÉTRICA DE LA
RECTA

RESUELVE EN TU CUADERNO EL
EJERCICIO SIGUIENTE Y ESCRIBE **OK**
EN LA RESPUESTA CORRECTA EN LOS
CASILLERO DE COLOR VERDE

Hallar la ecuación paramétrica de la recta dados los puntos

$Q = (6, 3)$ y $T = (2, 1)$

PROFE
GLUBIS


PROFE
LIMA

ECUACIÓN
PARAMÉTRICA DE
LA RECTA

$$\begin{cases} X=6-4K \\ Y=3-2K \end{cases}$$

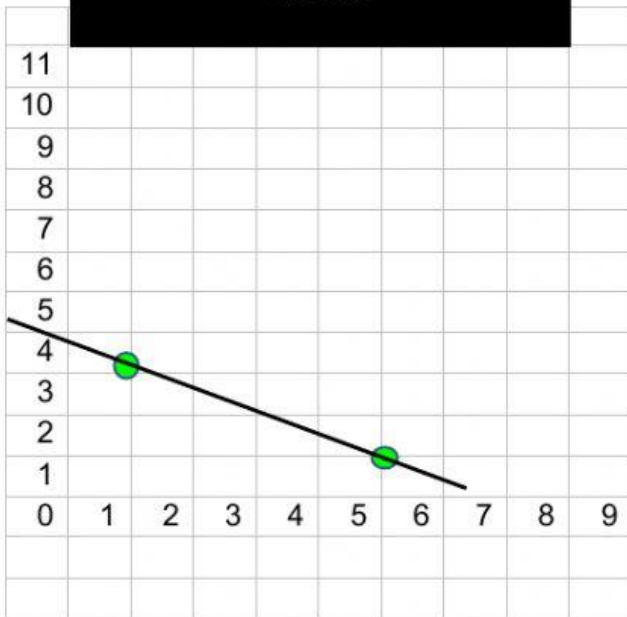
$$\begin{cases} X=6-2K \\ Y=4-2K \end{cases}$$

$$\begin{cases} X=3-2K \\ Y=6-6K \end{cases}$$



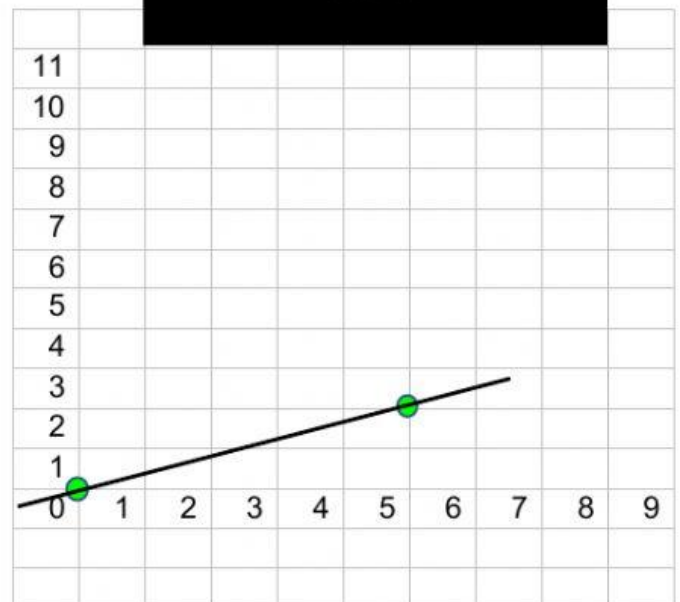
ESCRIBE **OK** EN LA GRÁFICA
CORRESPONDIENTE AL EJERCICIO

GRÁFICA


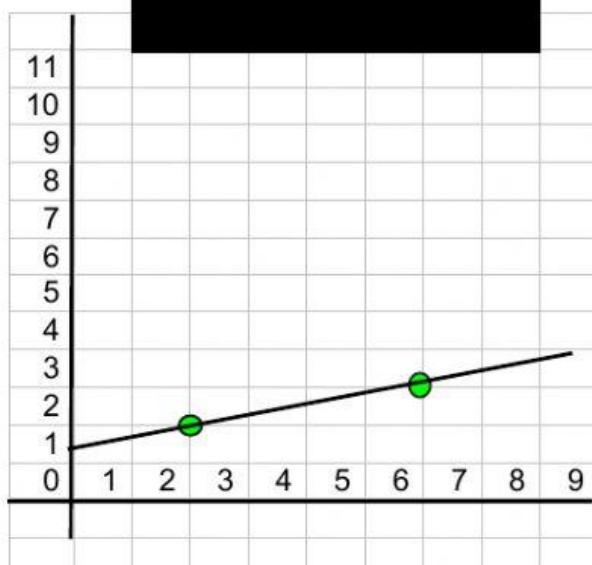


PROFE
GLUBIS
PROFE
LIMA

GRÁFICA



GRÁFICA



**TE DESEO ÉXITOS EN TU REFUERZO
ACADÉMICO ESPERO TE DIVIERTAS**

**NUNCA DEJES DE
ESTUDIAR**

-Homer Simpson
spanish-quotes/tumblr

