

Consolidación

1.- CONTESTA LO QUE SE TE SOLICITA

a) Alonso posee pienso suficiente para alimentar a sus 72 vacas durante 12 días. Mañana le van a traer otras 36 vacas más, ¿Cuánto tiempo podrá alimentarlas?

Completa la tabla, realiza la ecuación y menciona que tipo de gráfica sería

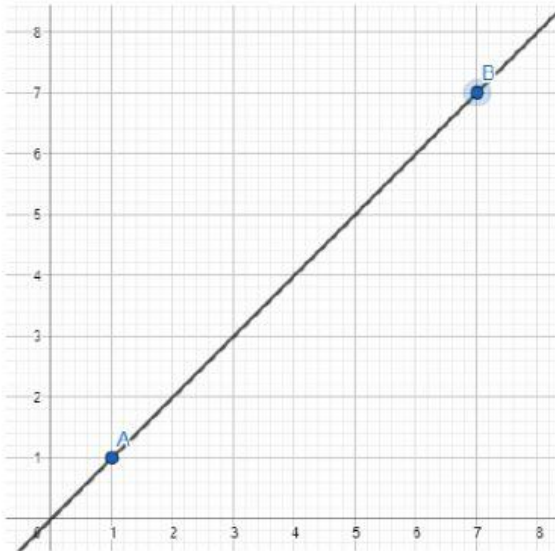
X=	Y=
72	12
108	
216	
	1

Ecuación

Y=

Tipo de gráfica:

Ocupa la siguiente recta y obten los datos de la siguiente tabla y la ecuación de la recta



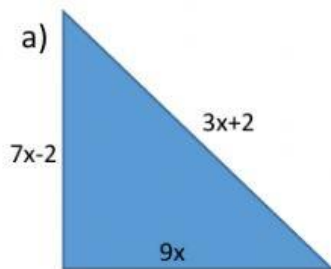
X	Y
1	
	5
7	

Ecuación

Y=

Consolidación

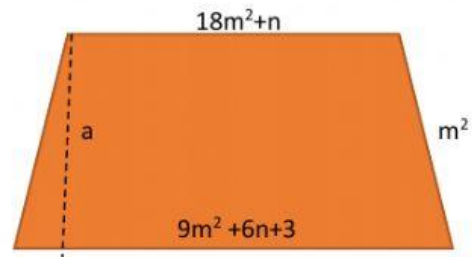
2.- ENCUENTRA EL ÁREA Y PERIMETO DE LAS SIGUIENTES FIGURAS



P=

A=

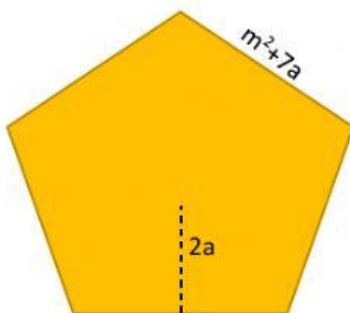
b)



P=

A=

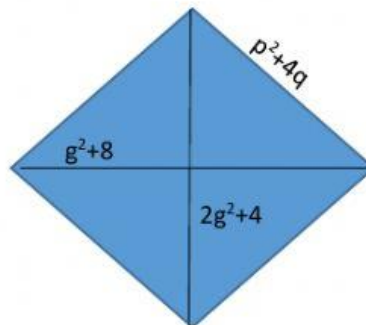
c)



P=

A=

D)



P=

A=

E)



P=

A=

Lic.EspinosAdriana