

UNIDAD EDUCATIVA GEOGE MASON

ISLA PINZON # 28 TEL. 022864705

UNIDAD EDUCATIVA GEORGE MASON

PRUEBA SUMATIVA DEL CUARTO PARCIAL DE ESTUDIOS SOCIALES

NOBRE _____ SEGUNDO DE BASICA

INDICADORES DE LOGROS.

Reconoce la función que cumplen los medios de transporte, los medios de comunicación y las principales ocupaciones y profesiones que existen en la comunidad a la que pertenece.

Instrucciones

- 1.-Trabaje en silencio y en forma individual.
- 2.-Si tiene dudas o consultas, levante la mano para que el profesor las aclare.
- 3.-Si es sorprendido copiando o conversando, la prueba será retirada.
- 4.-Una vez terminado la evaluación espere en el puesto en silencio y sigue las instrucciones de la Teacher.

1.- PINTE LA ESCENA QUE ES CORRECTA FRENTE A UN SISMO.(1P)



2.- RELACIONE CON LÍNEAS LO QUE CORRESPONDE.(5P)

Sí es bueno

NO es bueno

Ayudar a las víctimas de un desastre

Cruzar un área inundada


Ser parte de Defensa Civil

Jugar por donde pasó un huayco.

Conocer las zonas seguras de nuestra localidad.

3.- MARQUE CON UNA X LOS COMPORTAMIENTOS RESPETUOSOS. (4P)

Lic: ANGÉLICA CRUZ



5.- UNE CON UNA LÍNEA EL TRABAJADOR CON LA ILUSTRACIÓN QUE LO REPRESENTA.
(4 p)

cartero


enfermera
maestra

médico



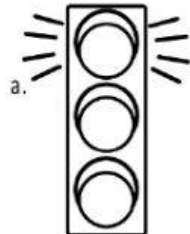
6.- ENCIERRE EN UN CÍRCULO LA RESPUESTA CORRECTA. (2 p)

1. ¿Qué señal de transito nos indica pare?



Lic: ANGÉLICA CRUZ

2. ¿Qué imagen representa niños cruzando?



8.- COLOREA LOS OVALOS QUE CONTIENEN LOS VALORES QUE HAZ APRENDIDO EN TU

RESPONSABILIDAD

RESPECTO

AMOR

MALDAD

EGOISMO

FAMILIA. (3p)

9.- OBSERVE LA IMAGEN Y ESCRIBA UN CONSEJO A ESTOS DOS NIÑOS QUE ESTAN PELEANDO EN SU ESCUELA. (1p)



10.- CONTESTE LAS SIGUIENTE SPREGUNTAS. (4p)

a) Cuál es el nombre de su escuela _____

b) Dónde está ubicada mi escolita _____

c) Yo vivo en _____

d) Mi número de teléfono es _____



UNIDAD EDUCATIVA GEOGE MASON
ISLA PINZON # 28 TEL. 022864705

TOTAL 24/24

Lic: ANGÉLICA CRUZ