

COLÉGIO EST. INÁCIO P.P.LEME- NILÓPOLIS

MATEMÁTICA - PROFª. ÉDINA VIEIRA

ALUNO(A) \_\_\_\_\_ SÉRIE: \_\_\_\_\_

## MEDIDAS DE COMPRIMENTO

1- OBSERVE OS INSTRUMENTOS DE MEDIDAS ABAIXO:



FITA MÉTRICA



RÉGUA

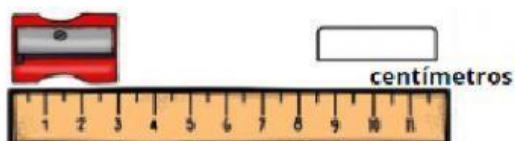


TRENA

ESCREVA QUAL INSTRUMENTO VOCÊ USARIA PARA MEDIR:

- A) A SUA ALTURA: \_\_\_\_\_  
B) A ALTURA DE CAIXA DE SAPATO: \_\_\_\_\_  
C) O COMPRIMENTO DE SEU CADERNO: \_\_\_\_\_  
D) O CONTORNO DE SUA CINTURA: \_\_\_\_\_


2- ANA MEDIU ALGUNS OBJETOS COM SUA RÉGUA.  
ESCREVA A MEDIDA DE CADA UM.



centímetros




centímetros



centímetros



centímetros



centímetros

3- MARIA LEVOU SEUS FILHOS: ANACLARA, 8 ANOS; RODRIGO, 11 ANOS ; MARIANA , 2 ANOS; E LUÍS , 4 ANOS , AO MÉDICO PARA SABER SE ESTAVAM SE DESENVOLVENDO E CRESCENDO ADEQUADAMENTE.



A) QUAL É A CRIANÇA MAIS ALTA?

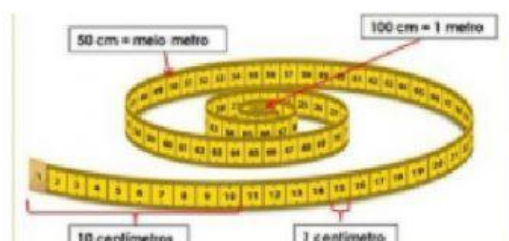
B) QUAL A CRIANÇA MAIS BAIXA?

C) QUEM É MAIS ALTO , A MARIANA OU O LUÍS?

D) VOCÊ SABE QUAL A SUA ALTURA DE HOJE? \_\_\_\_\_

E) VOCÊ NASCEU COM QUANTOS CENTÍMETROS? \_\_\_\_\_

4- QUAL A MAIOR PILHA DE LIVROS?





5- Leia as informações abaixo

**Você sabia que a girafa é o animal mais alto do mundo?**

A girafa é o mamífero mais alto que existe na Terra, podendo chegar a 6 metros de altura.



**O maior animal da Terra, você sabe qual é?**

É a baleia azul! Ela chega a medir 25 metros de comprimento e pesa cerca de 160 toneladas.



Responda:

a) Qual a altura que a girafa pode chegar? \_\_\_\_\_.

b) Quantos metros a baleia azul pode medir? \_\_\_\_\_.

c) Quem é a mais alta?

☐ girafa

☐ baleia azul

6- QUAL DOS OBJETOS ABAIXO QUE COMPRAMOS POR MEDIDAS DE COMPRIMENTO?



7- COMPLETE:

1 METRO = \_\_\_\_ CENTÍMETROS

MEIO METRO = \_\_\_\_ CENTÍMETROS

3 METROS = \_\_\_\_ CENTÍMETROS

1 METRO E MEIO = \_\_\_\_ CENTÍMETROS

