

CONOCIMIENTO DEL MEDIO

Observa la habitación de María. Es hora de ir a la escuela y no encuentra su tarea.



Marca con una ☒ la respuesta correcta.

¿Por qué María no puede encontrar su tarea?

- ☐ Porque se le olvidó dónde la puso.
- ☐ Porque tiene su habitación muy desordenada.

¿Cómo puede María ayudar en su casa?

- ☐ Debe limpiar su cuarto y ordenarlo.
- ☐ Debe pedirle a su familia que limpie su habitación.

Marca con una ☒ las acciones que corresponden a un **acuerdo para convivir en familia.**



Marca con una ☒ las acciones que permiten cuidar el agua.



Marca con una ☒ las respuestas correctas.

¿Qué puedes hacer para cuidar el agua y mantenerla limpia?


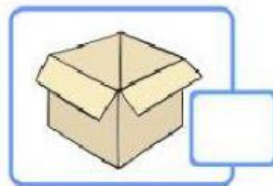
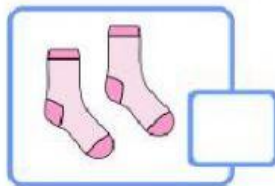
☐ Poner la basura en los lugares adecuados.

☐ Tirar más plástico en las calles.

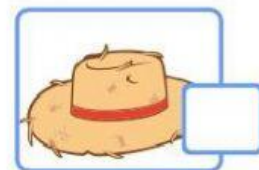
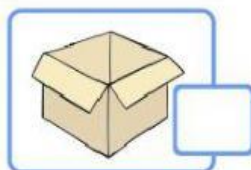
☐ Si veo una fuga de agua me voy inmediatamente.

☐ Avisar a un adulto si veo una fuga de agua.

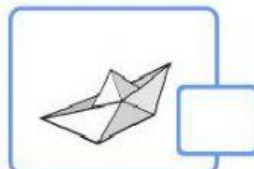
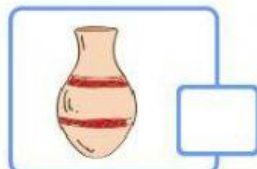

¿Cuál de los siguientes objetos no se puede doblar ni torcer?



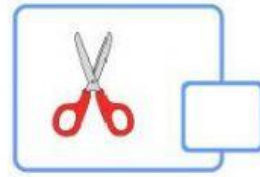
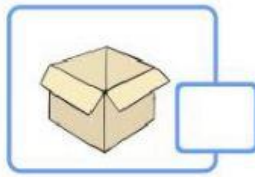

Marca con una ☒ el objeto más **áspero**.



Marca con una ☒ el objeto más **flexible**.



Marca con una ☒ el objeto más **suave**.



14 al 18.- Escribe de qué manera se están moviendo los objetos:
deformando, jalando, empujando.

