



OBSERVA LAS FIGURAS Y RESPONDE LAS PREGUNTAS CORRECTAMENTE.

1. Observe las siguientes secuencias y complete cada oración:



Figura 1




Figura 2

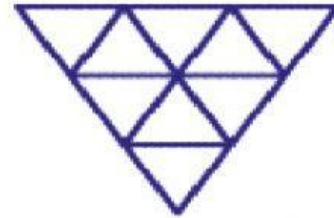


Figura 3

- a. La cantidad de triángulos en la figura 4 sería:
- b. La cantidad de triángulos en la figura 5 sería:
- c. La figura tendría 49 triángulos.



Figura 1



Figura 2



Figura 3

- d. La cantidad de círculos en la figura 4 sería:
- e. La cantidad de círculos en la figura 6 sería:
- f. La figura tendría 24 círculos.



Figura 1



Figura 2

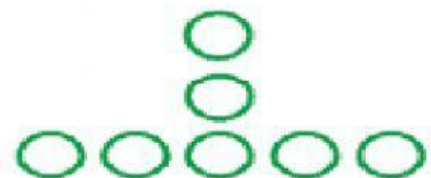


Figura 3

- g. La cantidad de círculos en la figura 6 sería:
- h. La cantidad de círculos en la figura 8 sería:
- i. La figura tendría 28 círculos.

2. Observe la secuencia y encuentre la figura que falta en el lugar dado



La figura en el lugar 22 será:



La figura en el lugar 30 será:



La figura en el lugar 16 será:



La figura en el lugar 72 será:

Profesora: Guadalupe Nández Pérez.