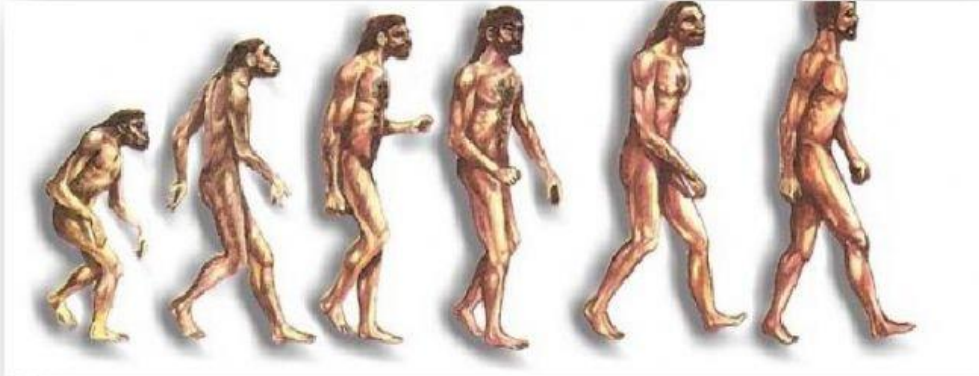


## EVALUACION DE CIENCIAS SOCIALES

### ACTIVIDADES

#### Los primeros hombres y el proceso de hominización




#### 1). UNIR el concepto de **HOMINIZACION**.

##### **HOMINIZACION**

es el proceso mediante el cual las personas aprenden a formar parte de una sociedad.

evolución de los seres humanos en sus aspectos biológicos y culturales


2). **ESCRIBIR** las características que definió al ser humano.

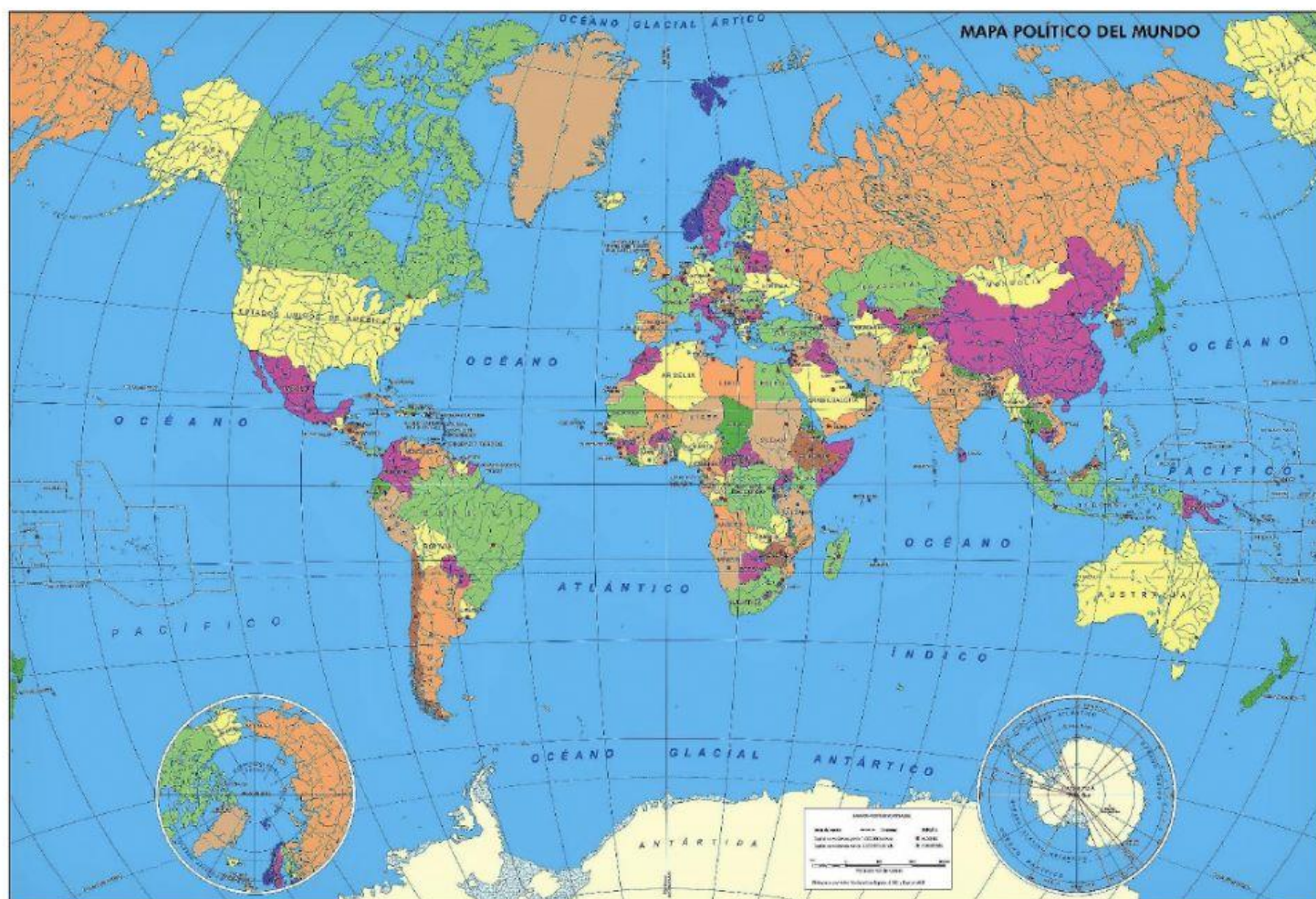
### Cómo fue la evolución del hombre

3). **MARCAR** las o la respuesta correcta.

a) ¿En qué continente comenzó el proceso de hominización?



b). **MARCAR** el continente en el planisferio.



4). **MARCAR** ¿En qué etapa de la historia de la humanidad comenzó el proceso de hominización?

#### ETAPA ESCRITA



EDAD ANTIGUA, EDAD MEDIA, EDAD MODERNA, EDAD CONTEMPORÁNEA.

#### ETAPA AGRAFA

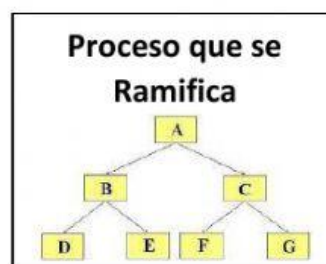


EDAD DE PIEDRA O PALEOLÍTICO Y EDAD DE METALES O NEOLÍTICO




5). **MARCAR** la respuesta correcta.

La evolución del hombre, ¿es un proceso lineal o se ramifica?



6). **UNIR** la imagen con el nombre que le corresponda.



Homo sapiens

Homo sapiens sapiens

Homo Habilis

Homo Erectus

Homo Neanderthalensis

7). **ELEGIR** la opción correcta.

¿Cuál es la única especie que habita hoy el planeta?



¡FELICITACIONES!  
LO LOGRASTE

