



MATEMÁTICAS

1. Teniendo en cuenta los criterios de divisibilidad responde:

815 es divisible entre

633 es divisible entre

958 es divisible entre

460 es divisible entre

570 es divisible entre

144 es divisible entre

es divisible entre 5

es divisible entre 10

es divisible entre 2

es divisible entre 9

es divisible entre 3

es divisible entre 2

2. Resuelve los siguientes problemas con divisiones.

En el huerto de mi abuelo han recogido **245 kilos de naranjas** y tiene que repartirlos en **5 furgonetas** para llevarlas a diferentes fruterías. ¿Cuántos kilos tendrá que transportar cada furgoneta?



Vamos a ir de excursión de fin de curso a la playa **174 alumnos y alumnas** del cole y nos van a repartir en **3 autobuses**. ¿Cuántos alumnos y alumnas iremos en cada autobús?



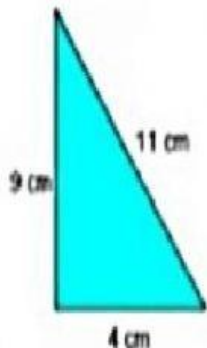
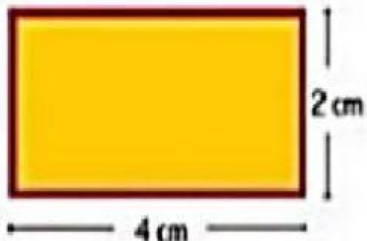



3. Observa la división y arrastra el término a cada número.

$\begin{array}{r} 16 \overline{) 8} \\ 0 \end{array}$	\rightarrow	16	<input type="text"/>	Dividendo
		2	<input type="text"/>	Divisor
		8	<input type="text"/>	Residuo
		0	<input type="text"/>	Cociente

GEOMETRÍA

1. Calcula el perímetro de los siguientes polígonos. No olvides poner cm, m según la unidad de la figura.

		
$P = $ <input type="text"/>	$P = $ <input type="text"/>	$P = $ <input type="text"/>



Colegio La Estrellita

Nuestro Compromiso es Educar con Calidad Humana

Preescolar y Básica Primaria
Resolución Oficial No.004110 de 2000

ESTADÍSTICA.

LA ORGANIZACIÓN DE DATOS

La mamá de Óscar ha planeado preparar una rica causa rellena para almorzar el domingo en familia, por lo que ha comprado los siguientes ingredientes:



Completa la tabla de datos para organizar los ingredientes y responde.

Ingrediente	Total
Atún 	
Papa 	
Ají 	
Aceite 	
Huevo 	
Limón 	

¿Qué ingrediente se compró en mayor cantidad?

¿Qué ingrediente se compró en menor cantidad?

¿Cuántas papas más que ajíes se compraron?

¿Cuántos ajíes más que huevos se compraron?