

Nombre _____

Clase _____

Ficha teoría 20


1 Clasifica los siguientes acordes:






















2 Clasifica estos intervallos. Fíjate que están en clave de Fa:



3 Escribe la tonalidad homónima de las siguientes tonalidades y la armadura de cada una de ellas:

Fa Mayor

Armadura:

Tonalidad
homónima



Armadura:

Sol Mayor


Armadura:

Tonalidad
homónima



Armadura:

4 Identifica las siguientes escalas menores:





5 Analiza el compás completando la siguiente tabla:

	Nº Tiempos	Unidad de Tiempo	Unidad de Compás	Unidad Subdivisión	Simple/ Compuesto