

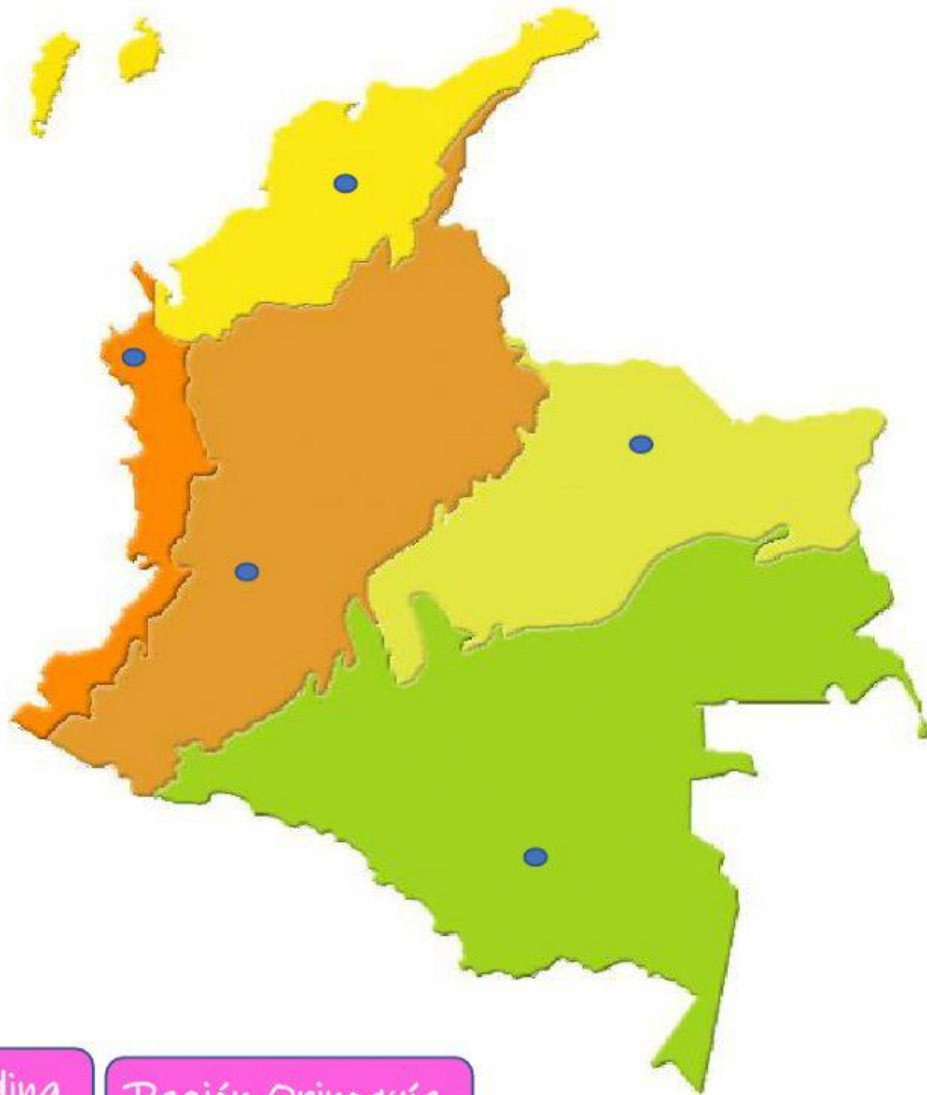


Newlove School Geografía 5^o

Nombre: _____ Fecha: ____/06/2021

SOCIALIZACION DE SABERES

1. Ubica en el mapa las regiones económicas de Colombia.



Región Andina

Región Orinoquía

Región Amazonía

Región Caribe

Región Pacífica

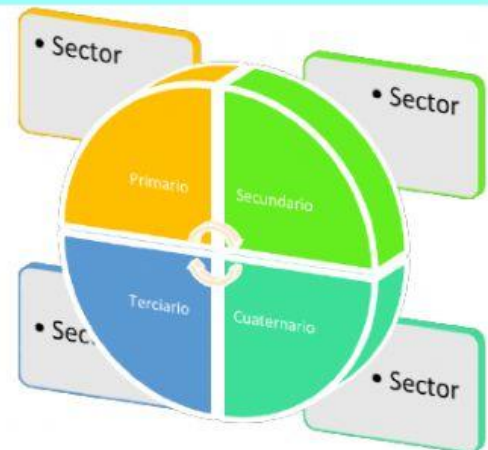
2. Relaciona cada sector de la economía con su definición

De él se obtienen bienes y servicios

Se desarrollan en fábricas y talleres

Los productos se obtienen directamente de la naturaleza

Se especializa en la generación e intercambio de información, tecnología, e investigaciones



3. Ordena cada una de las imágenes en el sector que les corresponde:

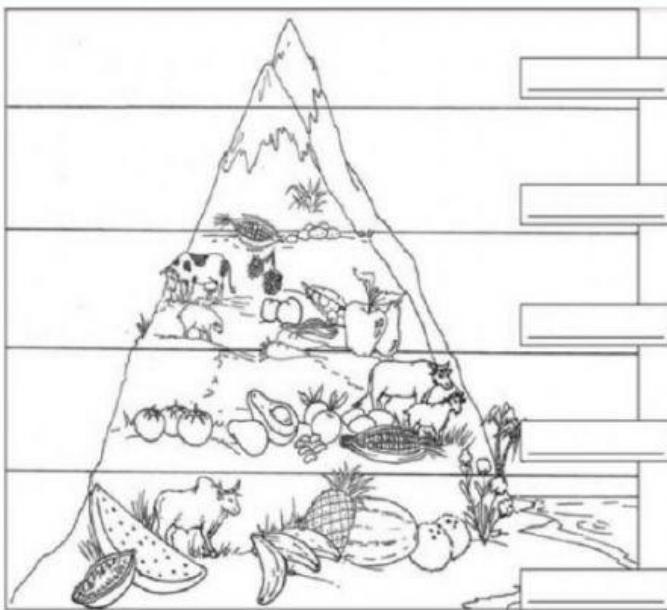
Sector Primario	Sector Secundario	Sector Terciario



4. Escoge la respuesta correcta:

- Hidrografía, es el término que identifica:
 - a. El estudio del clima y las variaciones de éste en una región.
 - b. El estudio de las fuentes de agua (río, mares océanos, humedales, etc) de una región.
 - c. El estudio del suelo, del relieve plano y montañoso de una región.
- Biodiversidad se refiere:
 - a. A la variedad de seres vivos que componen un ecosistema.
 - b. A los pisos térmicos que caracterizan nuestro país.
 - c. A la administración de los recursos del país.
- La economía es la ciencia que:
 - a. Se ocupa de la adecuada administración de los recursos limitados y escasos para la satisfacción de las necesidades de los individuos y de la sociedad. Se divide en 4 sectores importantes
 - b. Se ocupa de la adecuada administración de los recursos abundantes y mayoritarios para la satisfacción de las necesidades de los individuos y de la sociedad. Se divide en 5 sectores importantes.
 - c. Se ocupa de la adecuada administración de los recursos limitados y escasos para la satisfacción de las necesidades de los individuos y de la sociedad. Se dividen en 3 sectores importantes.

5. Ubica los pisos térmicos:



Frío

Cálido

Páramo

Templado

Nieves perpetuas

