

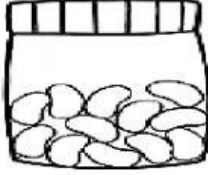
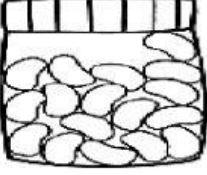

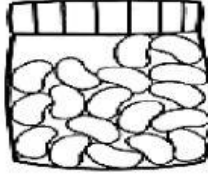
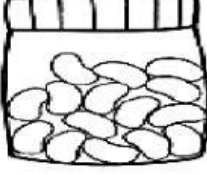
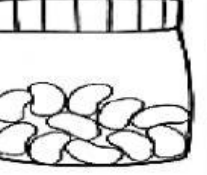
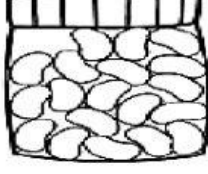
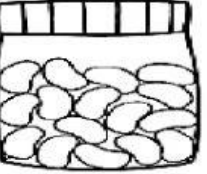

Ficha interactiva:

Números hasta el 19

GRADO: 1er grado de primaria

ÁREA: Matemática

1. Cuenta los frejoles de cada frasco y selecciona la respuesta correcta:

	10 13 12		17 16 18		14 15 13
	19 18 17		15 14 12		10 15 11
	19 20 16		18 15 16		13 12 10

2. Observa los frascos y completa:

