



UNIDAD EDUCATIVA FISCAL "BAHIA DE MANTA"

Dirección: Calle 115 entre Avenida 104-105 LOS ESTEROS - MANTA

- Teléfono: 052383-433 - Email: colegiobahiademanta@hotmail.com

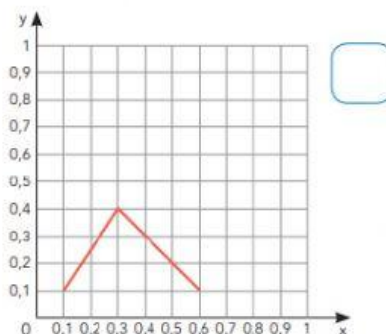
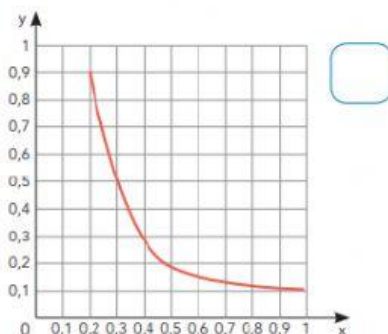
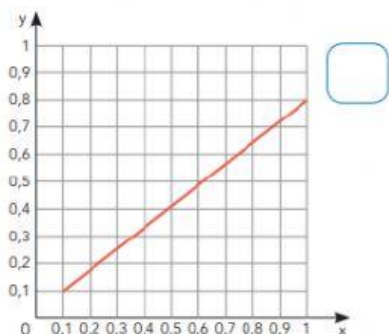
MANTA - MANABÍ - ECUADOR

Código AMIE: 13H02164



MAGNITUDES DIRECTAS E INVERSAS

1.- Seleccione cuál de las siguientes imágenes corresponden a una magnitud directamente proporcional.



2.- Marque con una **X** en la columna D para aquellas magnitudes que son directamente proporcionales y en la columna I aquellas magnitudes que son inversamente proporcionales

MAGNITUDES	DIRECTAS	INVERSAS
	D	I
Número de mazana y precio por pagar		
Número de autos y número de llantas		
Número de obreros y tiempo de entrega de una obra		
Velocidad y tiempo en llegar a un destino		
Estatura y peso de una persona		

3.- Complete la siguiente tabla de proporcionalidad:

Para cada cantidad de autos cuantas llantas se tienen

N° de Autos	Procedimiento	N° de Llantas
2	$x \ 4 \ =$	
	$x \ 4 \ = \ 12$	12
	$x \ 4 \ = \ 16$	16
5	$x \ 4 \ =$	
7	$x \ 4 \ =$	
9	$9 \ x \ 4 \ = \ 36$	36