

La función de relación

1. Marca las palabras que estén relacionadas con la función de relación.

axón páncreas intestinos hipófisis cerepelo tendrita

médula ósea articulación médula espinal sinapsis respuesta motora

receptores extrasensoriales reflejos cerebro neotórax hígado ojos

2. Clasifica las funciones que controla el cerebro, el cerebelo o el tronco encefálico.

Lenguaje Respiración Equilibrio Sentimientos digestión Recordar

Latidos presión arterial Caminar Mantenerse de pie

Cerebro	Cerebelo	Tronco encefálico

3. Identifica si los siguientes hábitos saludables favorecen a:

Los sentidos el aparato locomotor el sistema nervioso

Sonarse la nariz con la boca abierta y con suavidad. _____

Consumir alimentos que nos aporten calcio. _____

Evita el uso de bastoncillos para no empujar hacia dentro la cera. _____

Realizar ejercicio físico moderado con regularidad. _____

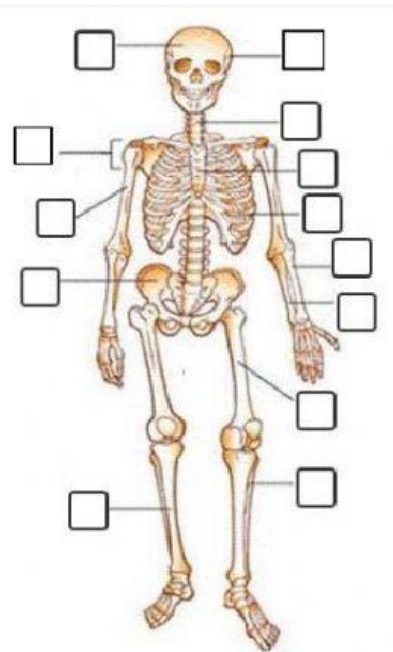
No consumir drogas. _____

Dormir entre 8 y 9 horas diarias. _____

Evitar las sustancias picantes. _____

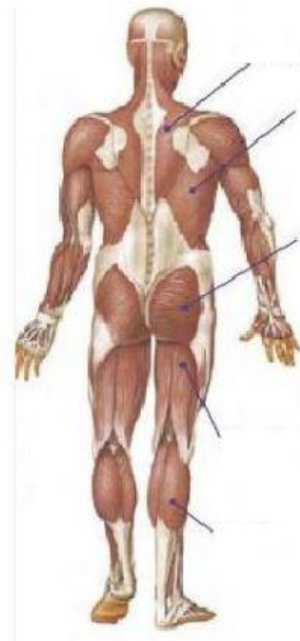
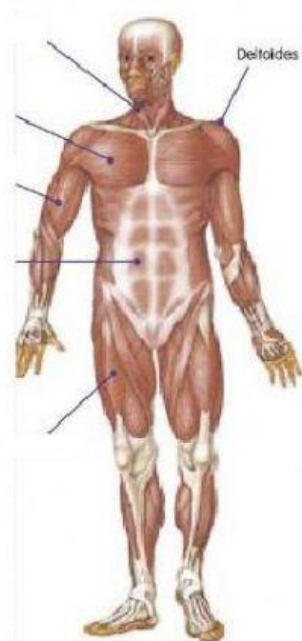
Mantener una postura correcta al sentarnos. _____

4. Completa las imágenes con los números correspondientes



- | | | | |
|---|-----------|----|----------------------|
| 1 | Tibia | 8 | Cubito |
| 2 | Temporal | 9 | Peroné |
| 3 | Pelvis | 10 | Frontal |
| 4 | Fémur | 11 | Radio |
| 5 | Húmero | 12 | Vértebras cervicales |
| 6 | Esternón | 13 | omóplato |
| 7 | Costillas | | |

Completa con el nombre de los músculos que faltan



Glúteo

Cuádriceps

Trapezio

Esternocleidomastoideo

Pectoral

Dorsal

Bíceps femoral

Bíceps braquial

Gemelos

Abdominal