

Nombre:		Fecha:	
Docente: Lcda. Daysi Clemente Borbor	Curso:	Sección:	

LECCION DE EESS 1° PARCIAL 1° QUIMESTRE

1.- Observe el planisferio y ubique las teorías poblacionales de América (tomando como ejemplo la ruta y el autor de cada teoría) VALE 3 PUNTOS



2.- Escriba el literal de la respuesta correcta de cada enunciado (VALE 0.50 PUNTOS C/U)

Uno de los aportes más importantes de los Mayas fue:

- A. Su sistema de cultivar la tierra andenes
- B. La creación de un sistema de numeración vigesimal, basado en el número 20, en el cual ya existía el número 0
- C. La Construcción de grandes pirámides que fueron centros ceremoniales para adorar a sus dioses.
- D. La creación de un sistema de riego para la agricultura.




¿Qué significa que el ser humano sea carroñero?

- A. Se alimentaban de las sobras que dejaban los demás animales
- B. Fabricaban sus propias herramientas
- C. Iniciaron actividades de recolección
- D. Re reunían en muchos familiares




La Cultura Azteca se ubicó principalmente en:

- A. Veracruz
- B. Guatemala
- C. Lago Texococo
- D. Tabasco




El sistema de cultivo en la cultura Azteca recibió el nombre de Chinampas y estas se caracterizan porque estaban construidas sobre la superficie de:

- A. Grandes montañas
- B. Lagos Lagunas
- C. Valles y llanuras
- D. Mesetas



La adoración a diferentes dioses, es la razón por la cual se afirma que los Mayas, Incas y Aztecas fueron:

- A. Monoteísta
- B. Ateos
- C. Caóticos
- D. Politeísta



La organización económica de los mayas y aztecas se basaba principalmente en la:

- A. Ganadería o pastoreo de animales
- B. Agricultura o formas de cultivar la tierra
- C. Construcción de caminos y rutas para el comercio.
- D. Construcción de caminos y rutas para el comercio.



Anota una M si el texto se refiere a la cultura MAYA o una O si tiene que ver con la cultura OLMECA.

(VALE 2 ptos C/U 0.20)

1. \_\_\_\_ San Lorenzo, La Venta y Tres Zapotes fueron sus poblados más importantes.
2. \_\_\_\_ Construyeron grandes ciudades como Tikal, Palenque y Yaxchilán.
3. \_\_\_\_ Habitaron las costas del Golfo de México, parte de Veracruz y Tabasco.
4. \_\_\_\_ Civilización que se desarrolló durante el periodo Formativo.

5. \_\_\_\_ Fueron un pueblo guerrero cuyas ciudades vivieron periodos de guerra.
6. \_\_\_\_ Elaboraron el primer calendario de Mesoamérica
7. \_\_\_\_ Crearon un avanzado sistema de escritura y utilizaban el cero.
8. \_\_\_\_ Civilización que se desarrolló durante el periodo clásico.
9. \_\_\_\_ Se organizaron mediante Ciudades Estados
10. \_\_\_\_ Se los conoce como los habitantes de la región e hule o habitantes del caucho

Explica en tus propias palabras cual era la relación que existía entre la mujer y la agricultura.

---

---