



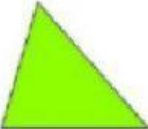






I.E.P. NUESTRA SEÑORA DE GUADALUPE.

ÁREA: GEOMETRÍA

PROFESORA: ROCIO COLOS



❖ Completa el siguiente cuadro:

DIBUJO DEL POLÍGONO	NOMBRE DEL POLÍGONO	Nº DE LADOS	Nº DE VÉRTICES	Nº DE ÁNGULOS	REGULAR/IRREGULAR
	<input type="text"/>	<input type="text"/>	<input type="text"/>	<input type="text"/>	<input type="text"/>
	<input type="text"/>	<input type="text"/>	<input type="text"/>	<input type="text"/>	<input type="text"/>
	<input type="text"/>	<input type="text"/>	<input type="text"/>	<input type="text"/>	<input type="text"/>
	<input type="text"/>	<input type="text"/>	<input type="text"/>	<input type="text"/>	<input type="text"/>
	<input type="text"/>	<input type="text"/>	<input type="text"/>	<input type="text"/>	<input type="text"/>
	<input type="text"/>	<input type="text"/>	<input type="text"/>	<input type="text"/>	<input type="text"/>
	<input type="text"/>	<input type="text"/>	<input type="text"/>	<input type="text"/>	<input type="text"/>